



□を使った式 6

● □ × 数, 数 × □ の
□ をもとめる計算

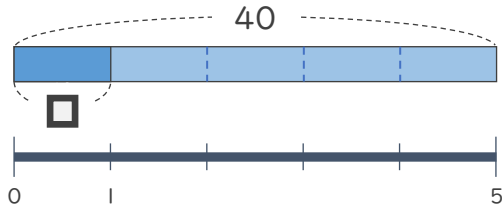


日にち： 月 日

名まえ _____

・ □ にあてはまる数をもとめましょう。(うすい字はなぞりましょう。)

①

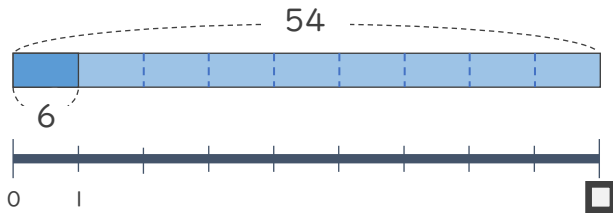


$$\square \times 5 = 40$$

$$\square = 40 \div 5$$

$$\square =$$

②



$$6 \times \square = 54$$

$$\square =$$

$$\square =$$



□を使った式 6

● □ × 数, 数 × □ の
□ をもとめる計算

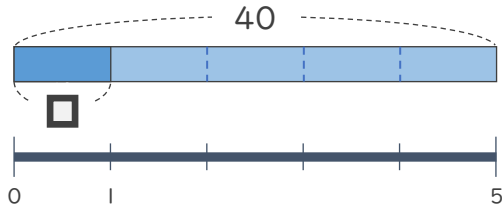


日にち： 月 日

名まえ _____

・ □ にあてはまる数をもとめましょう。(うすい字はなぞりましょう。)

①

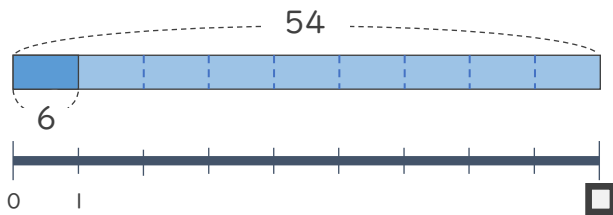


$$\square \times 5 = 40$$

$$\square = 40 \div 5$$

$$\square = 8$$

②



$$6 \times \square = 54$$

$$\square = 54 \div 6$$

$$\square = 9$$

