



□を使った式 9

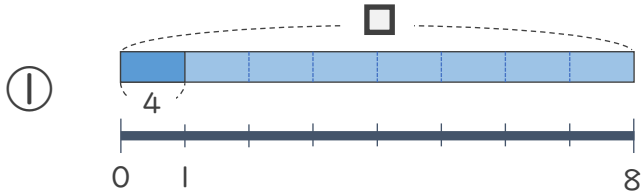
● □ ÷ 数の
□ をもとめる計算



日にち： 月 日

名まえ _____

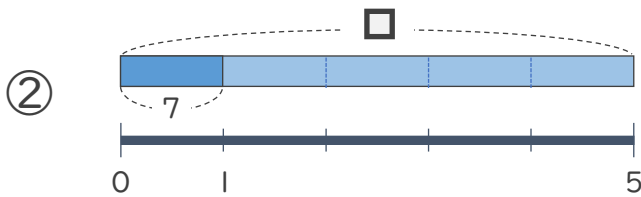
・ □ にあてはまる数をもとめましょう。(うすい字はなぞりましょう)



$$\square \div 8 = 4$$

$$\square =$$

$$\square =$$



$$\square \div 5 = 7$$

$$\square =$$

$$\square =$$



□を使った式 9

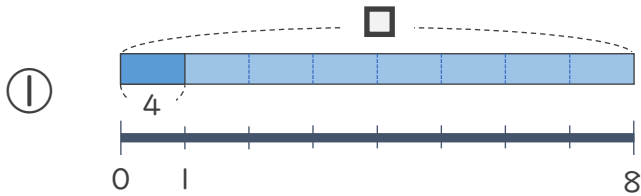
● □ ÷ 数の
□ をもとめる計算



日にち： 月 日

名まえ _____

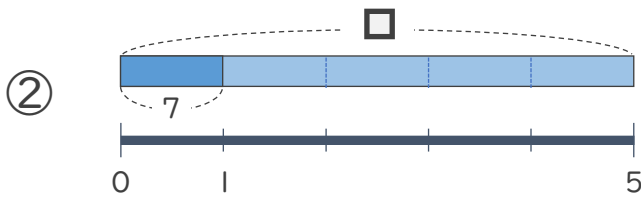
・ □ にあてはまる数をもとめましょう。(うすい字はなぞりましょう)



$$\square \div 8 = 4$$

$$\square = 4 \times 8$$

$$\square = 32$$



$$\square \div 5 = 7$$

$$\square = 7 \times 5$$

$$\square = 35$$