



□を使った式 2

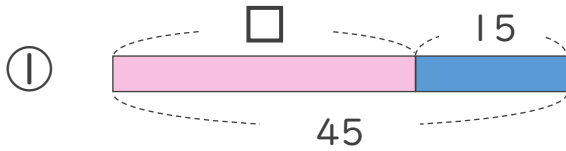
● □+数, 数+□ の
□をもとめる計算



日にち： 月 日

名まえ _____

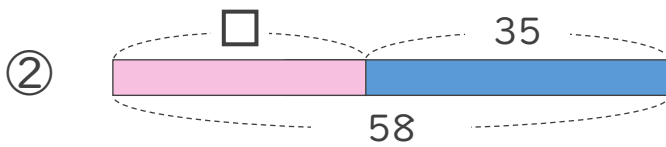
- にあてはまる数をもとめましょう。(うすい字はなぞりましょう)



$$\square + 15 = 45$$

$$\square = 45 - 15$$

$$\square =$$



$$\square + 35 = 58$$

$$\square =$$

$$\square =$$



□を使った式 2

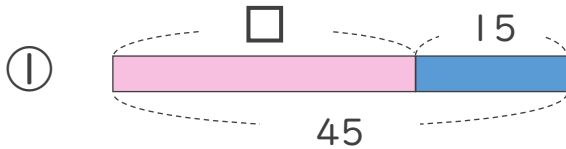
● □+数, 数+□ の
□をもとめる計算



日にち： 月 日

名まえ _____

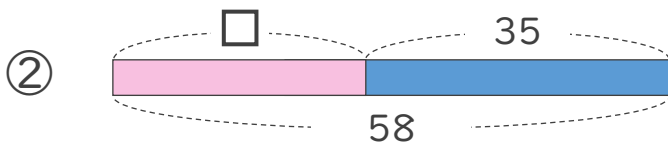
- にあてはまる数をもとめましょう。(うすい字はなぞりましょう)



$$\square + 15 = 45$$

$$\square = 45 - 15$$

$$\square = 30$$



$$\square + 35 = 58$$

$$\square = 58 - 35$$

$$\square = 23$$

