



□を使った式 4

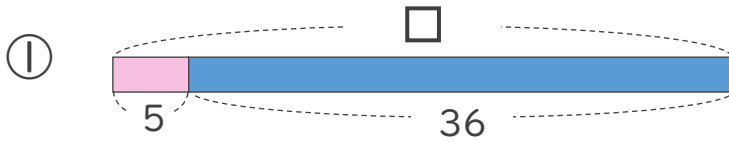
● □-数の□を
もとめる計算



日にち： 月 日

名まえ _____

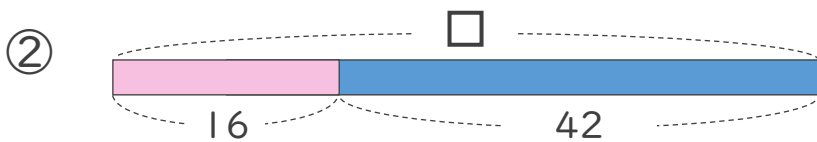
・ □にあてはまる数をもとめましょう。(うすい字はなぞりましょう。)



$$\square - 5 = 36$$

$$\square = 36 + 5$$

$$\square =$$



$$\square - 16 = 42$$

$$\square =$$

$$\square =$$



□を使った式 4

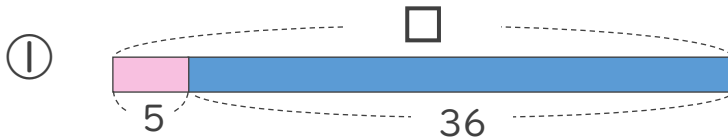
● □-数の□を
もとめる計算



日にち： 月 日

名まえ _____

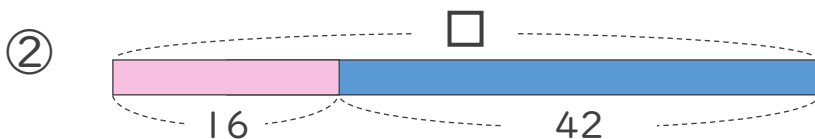
・ □にあてはまる数をもとめましょう。(うすい字はなぞりましょう。)



$$\square - 5 = 36$$

$$\square = 36 + 5$$

$$\square = 41$$



$$\square - 16 = 42$$

$$\square = 42 + 16$$

$$\square = 58$$

