



時こくと時間の
もとめかた 10

● ○分前の時こく (数直線)

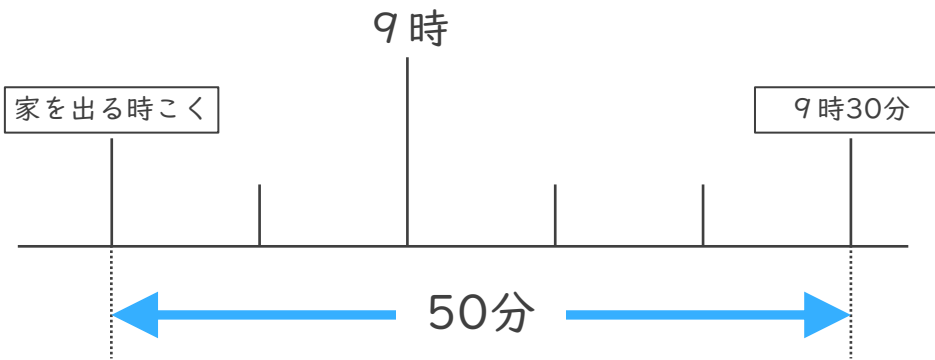


日にち： 月 日

名まえ _____

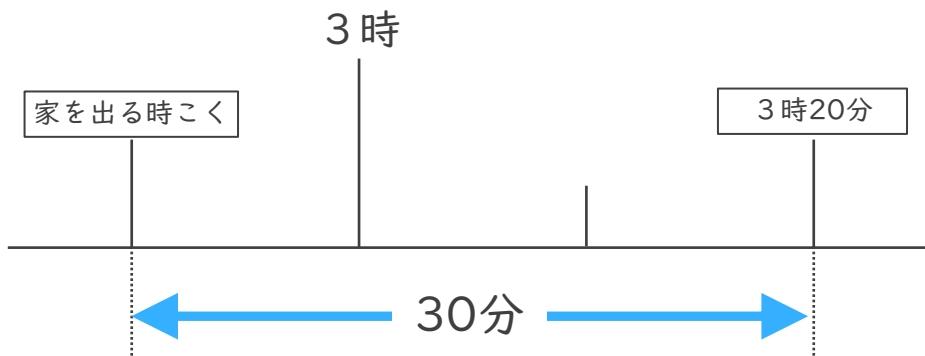
・ 次の問いに^{こた}答えましょう。

- ① まきさんの家から学校まで50分かかります。9時30分までに学校に着くためには、おそくとも何時何分までに家を出なければならないでしょうか。



答え ()

- ② けんさんの家から病院^{びょういん}まで30分かかります。3時20分までに病院に着くためには、おそくとも何時何分までに家を出なければならないでしょうか。



答え ()



時こくと時間の
もとめかた 10
● ○分前の時こく (数直線)

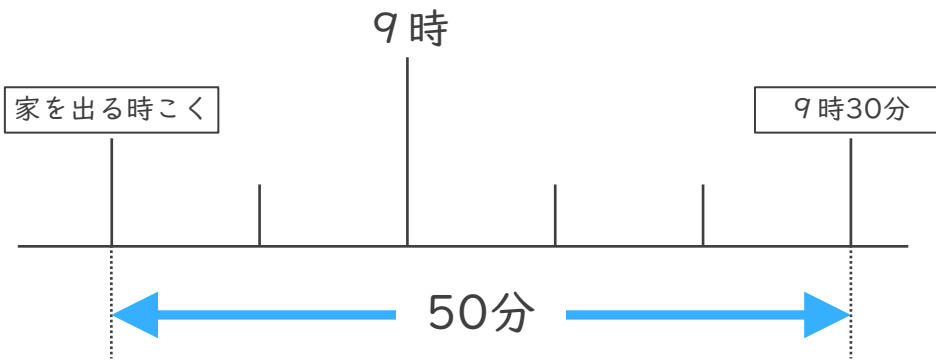


日にち： 月 日

名まえ _____

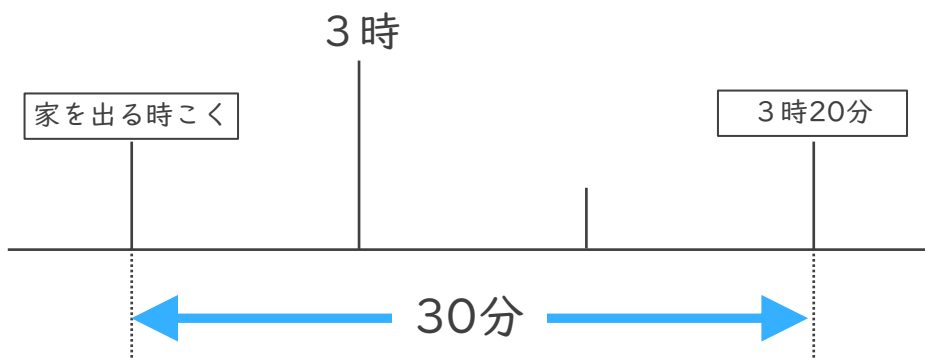
・ 次の問いに^{こた}答えましょう。

- ① まきさんの家から学校まで50分かかります。9時30分までに学校に着くためには、おそくとも何時何分までに家を出なければならないでしょうか。



答え (**8時40分**)

- ② けんさんの家から病院^{びょういん}まで30分かかります。3時20分までに病院に着くためには、おそくとも何時何分までに家を出なければならないでしょうか。



答え (**2時50分**)

