



かけ算の筆算 18

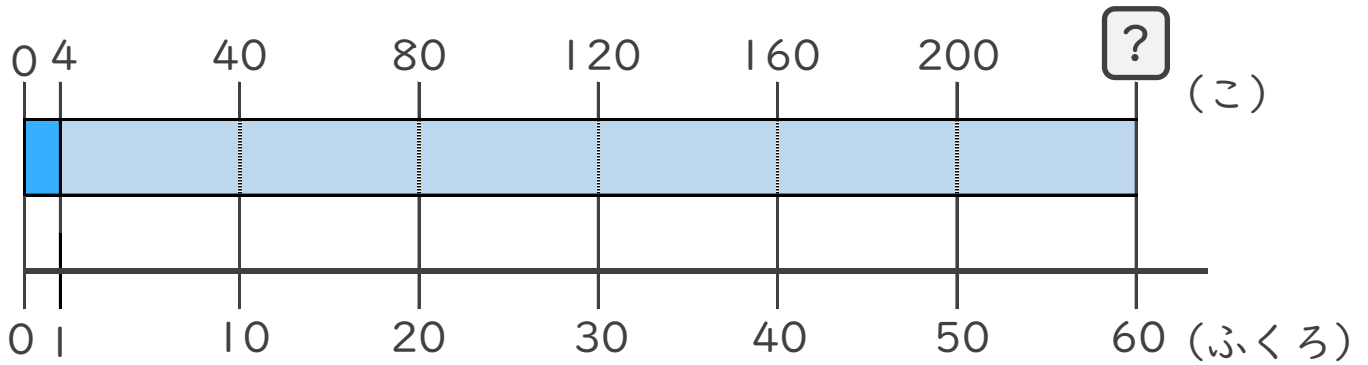
◎ 何十倍のかけ算とは



日にち： 月 日

名まえ _____

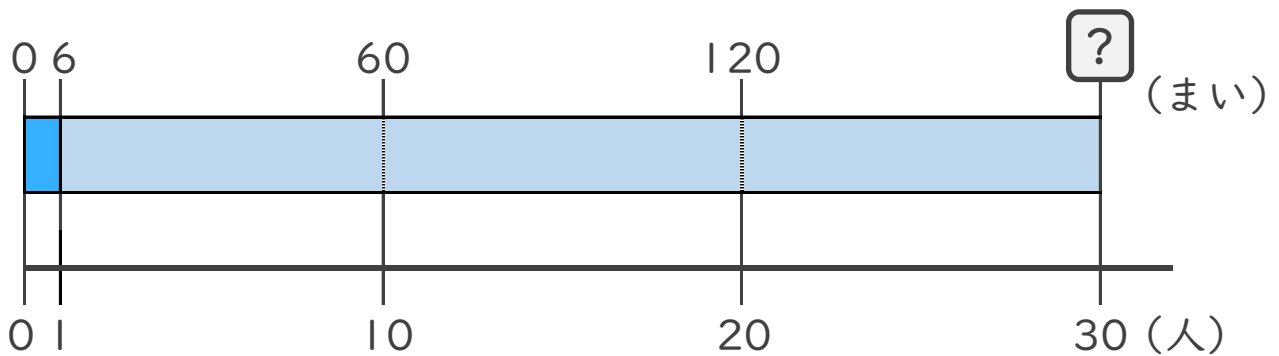
1 4こずつみかんが入っているふくろが、60ふくろあります。
みかんは全部で何こ ありますか。



式：

答え： _____

2 クッキーをひとりに6まいずつ、30人に配ります。
クッキーは全部で何まい ありますか。



式：

答え： _____



かけ算の筆算 18

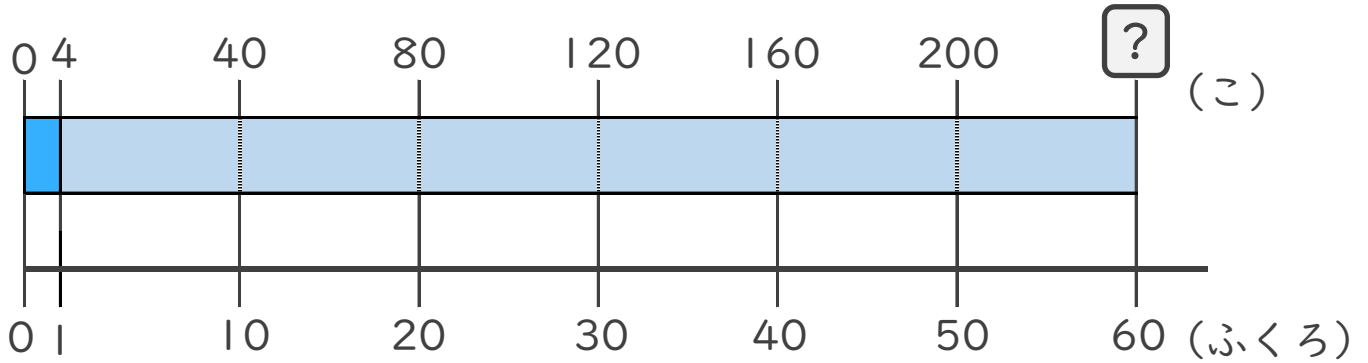
◎ 何十倍のかけ算とは



日にち： 月 日

名まえ _____

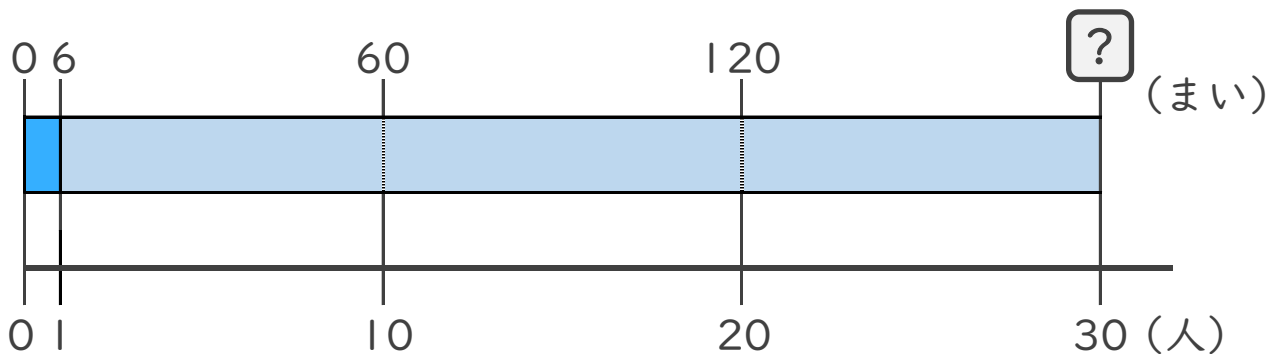
- 1 4こずつみかんが入っているふくろが、60ふくろあります。
みかんは全部で何こ ありますか。



$$\text{式： } 4 \times 60 = 240$$

答え：240こ

- 2 クッキーをひとりに6まいずつ、30人に配ります。
クッキーは全部で何まい ありますか。



$$\text{式： } 6 \times 30 = 180$$

答え：180まい

