



大きい数のわり算3

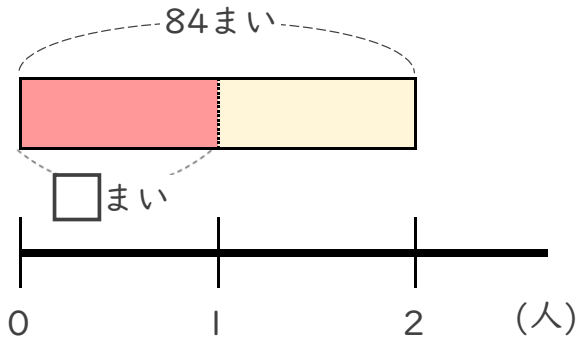
◎ 69まいの色紙を
3人でわける



日にち： 月 日

名まえ _____

- ・ 84まいの色紙を、2人で同じ数ずつ分けます。
1人分は何まいになりますか。

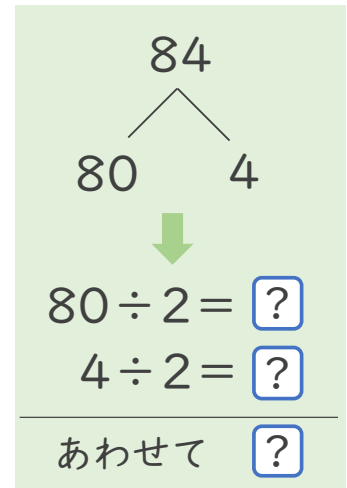
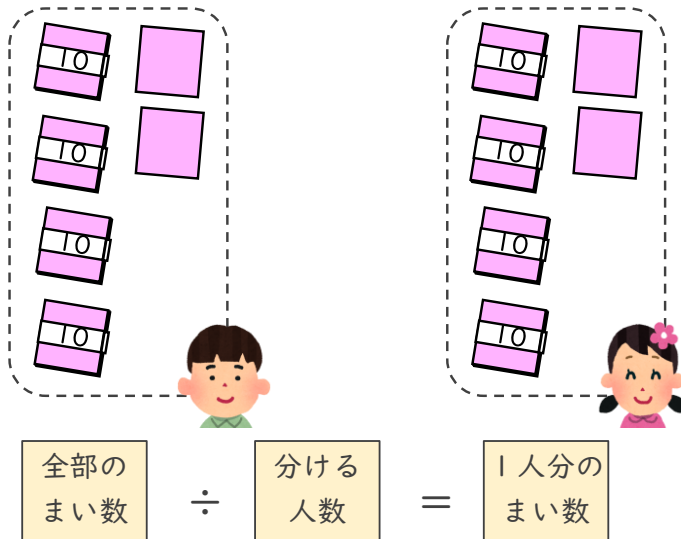


① 計算の式を書きましょう。

| | | |
|------------|---|-----------|
| 全部の まい数 | ÷ | 分ける 人数 |
|------------|---|-----------|

式 _____

② 下の図をもとに計算してみましょう。



式:

答え _____



大きい数のわり算3

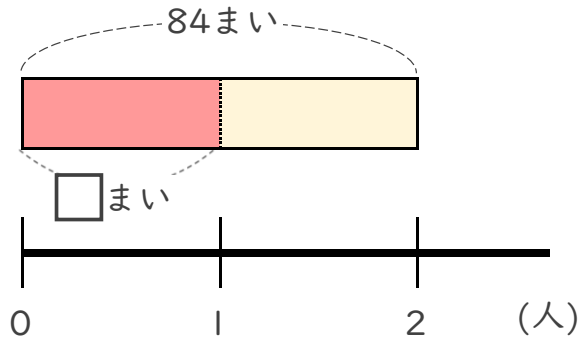
69まいの色紙を
3人でわける



日にち： 月 日

名まえ _____

- 84まいの色紙を、2人で同じ数ずつ分けます。
1人分は何まいになりますか。

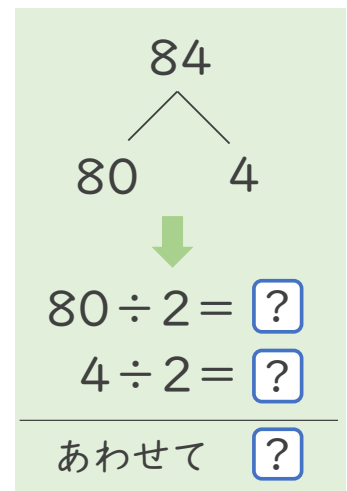
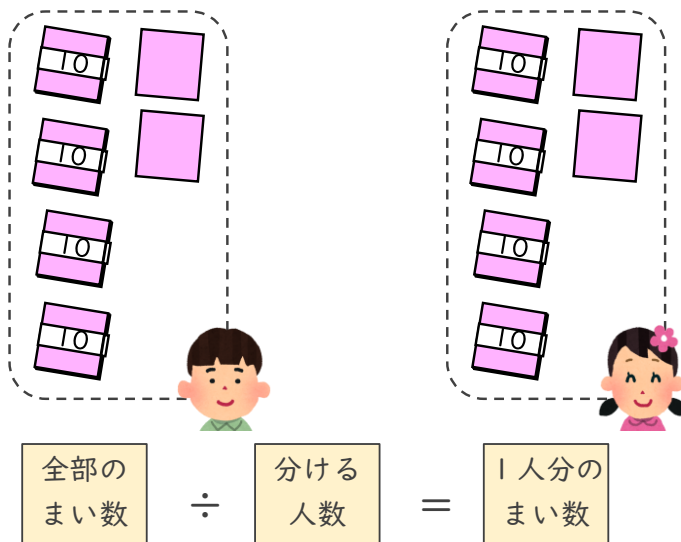


- ① 計算の式を書きましょう。



式 $84 \div 2$

- ② 下の図をもとに計算してみましょう。



式: $84 \div 2 = 42$

答え 42 まい