





# ぼうグラフと表5

● ぼうグラフの  
1めもりの大きさ

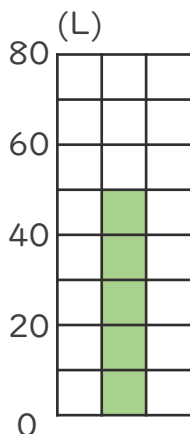
# 4

日にち：            月            日

名まえ \_\_\_\_\_

・ 次のぼうグラフで、1めもりが表している大きさと、  
ぼうが表している大きさをもとめましょう。

①

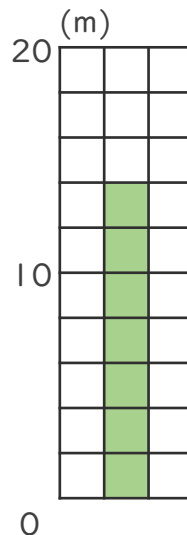


0と20の間を  
2つに分けている。

1めもり [ 10L ]

グラフ [ 50L ]

③

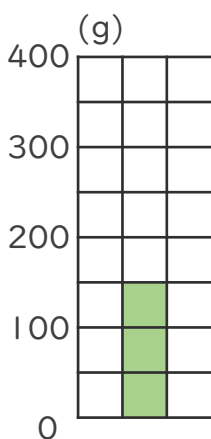


0と10の間を  
5つに分けている。

1めもり [ 2m ]

グラフ [ 14m ]

②

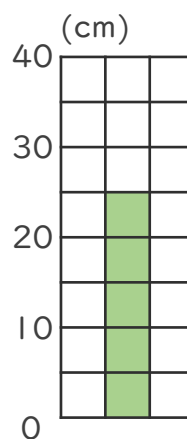


0と100の間を  
2つに分けている。

1めもり [ 50g ]

グラフ [ 150g ]

④



0と10の間を  
2つに分けている。

1めもり [ 5cm ]

グラフ [ 25cm ]

