



# 長いものの長さの はかり方と表し方

まきじゃくの読み取り

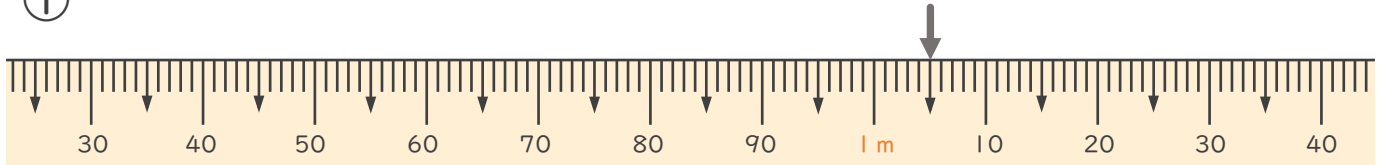


日にち： 月 日

名まえ

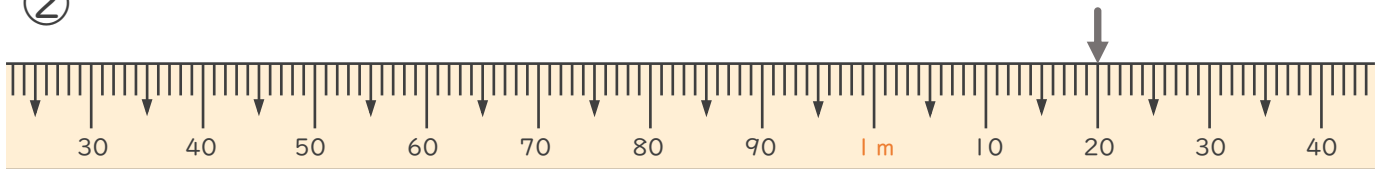
- 次のまきじゃくで、↓のめもりが表している長さを読み取りましょう。  
(うすい字はなぞりましょう。)

①



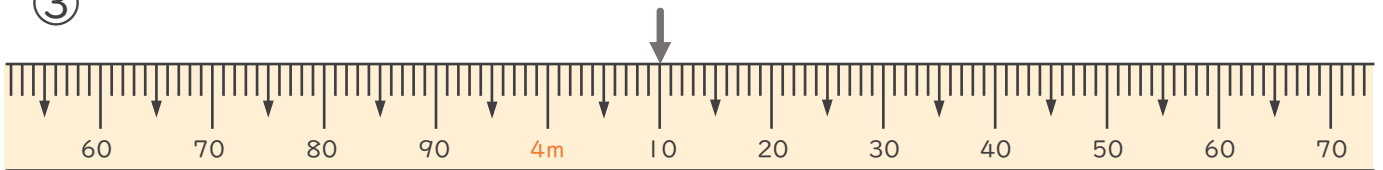
答え ( 1 m 5 c m )

②



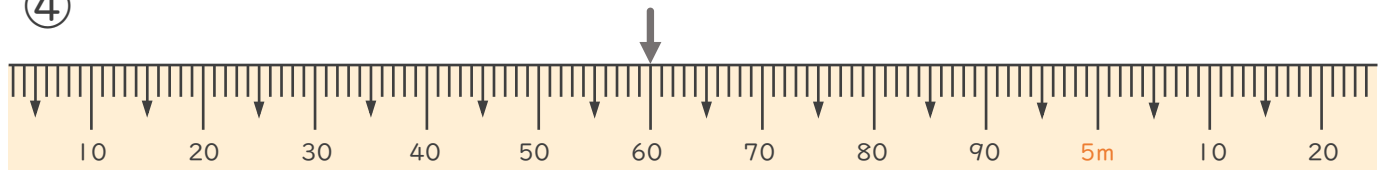
答え ( )

③



答え ( )

④



答え ( )





# 長いものの長さの はかり方と表し方

まきじゃくの読み取り

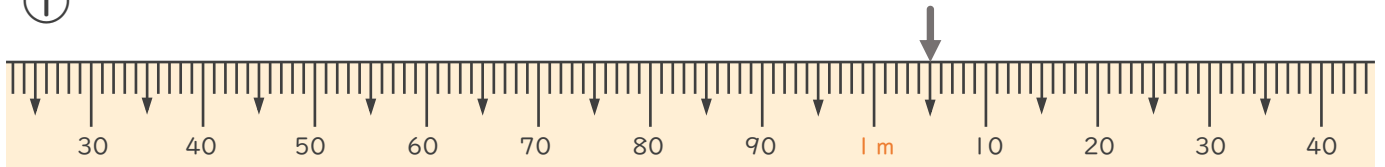


日にち： 月 日

名まえ \_\_\_\_\_

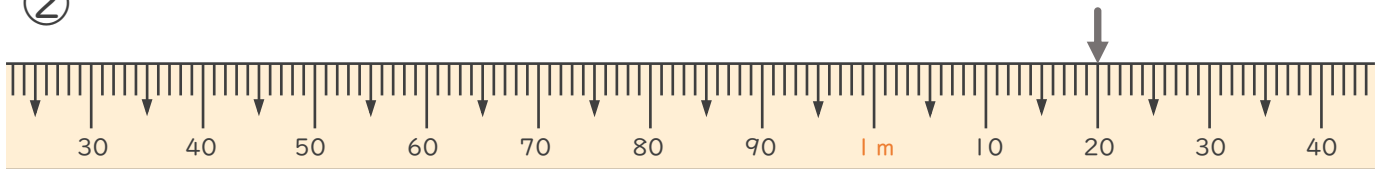
- 次のまきじゃくで、↓のめもりが表している長さを読み取りましょう。  
(うすい字はなぞりましょう。)

①



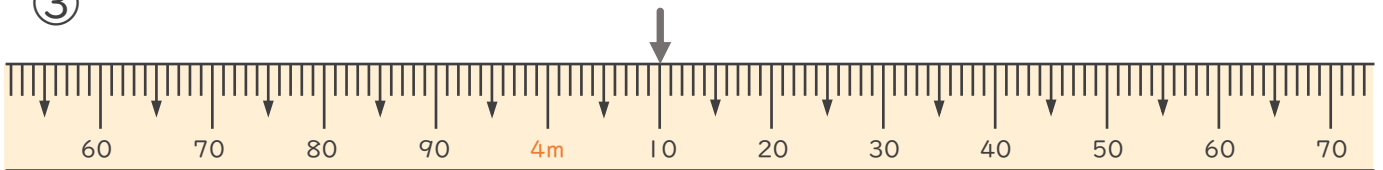
答え ( 1 m 5 c m )

②



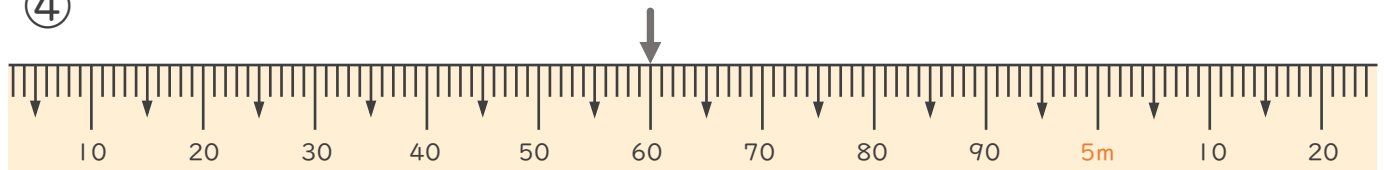
答え ( 1 m 2 0 c m )

③



答え ( 4 m 1 0 c m )

④



答え ( 4 m 6 0 c m )

