



長いものの長さの はかり方と表し方 2

● まきじゃくへの書きこみ

4

日にち： 月 日

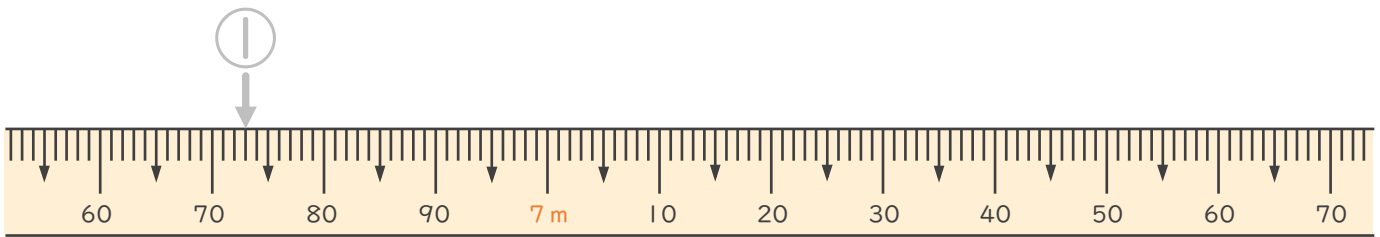
名まえ _____

1 次のまきじゃくで、①～③の長さを表すメモりに ↓ をかきましょう。
(うすい字はなぞりましょう。)

① 6 m 73 cm

② 7 m 8 cm

③ 7 m 52 cm

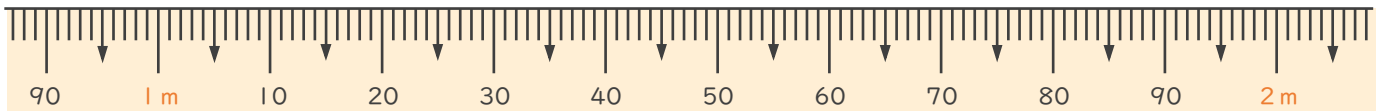


2 次のまきじゃくで、①～③の長さを表すメモりに ↓ をかきましょう。

① 95 cm

② 1 m 55 cm

③ 1 m 95 cm





長いものの長さの はかり方と表し方 2

● まきじゃくへの書きこみ

4

日にち： 月 日

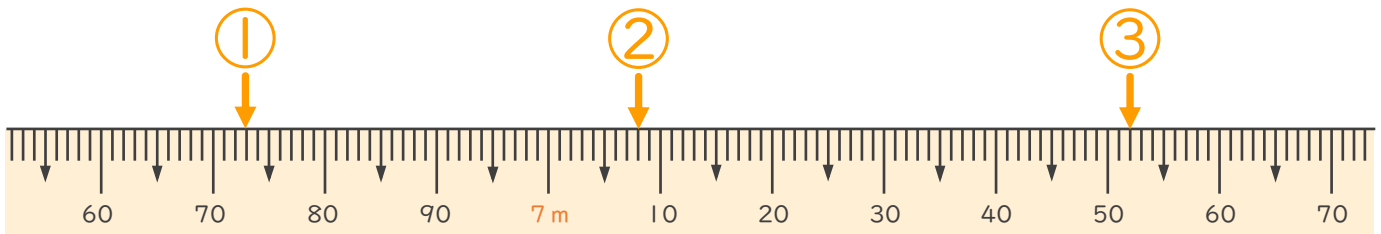
名まえ _____

1 次のまきじゃくで、①～③の長さを表すメモりに ↓ をかきましょう。
(うすい字はなぞりましょう。)

① 6 m 73 cm

② 7 m 8 cm

③ 7 m 52 cm



2 次のまきじゃくで、①～③の長さを表すメモりに ↓ をかきましょう。

① 95 cm

② 1 m 55 cm

③ 1 m 95 cm

