



円と球 7

コンパスで長さ比べ



日にち： 月 日

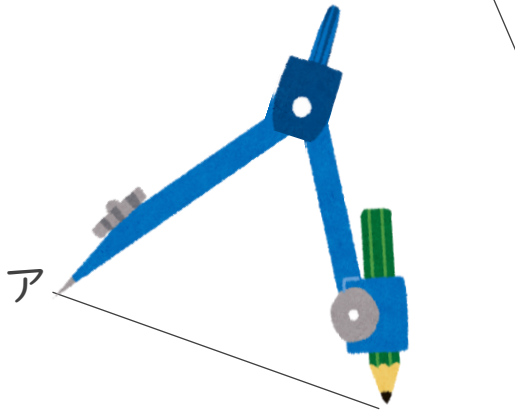
名まえ _____

・ 次の直線の長さをくらべ、長いじゆんに答えましょう。
(うすい字は、なぞりましょう。)

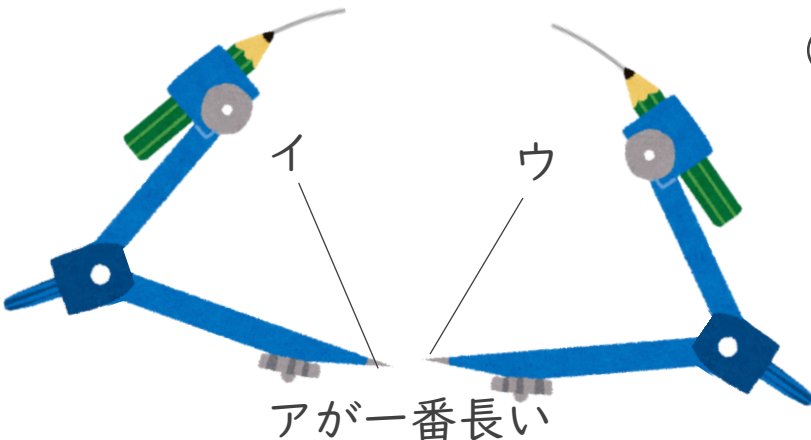
ア

イ

ウ

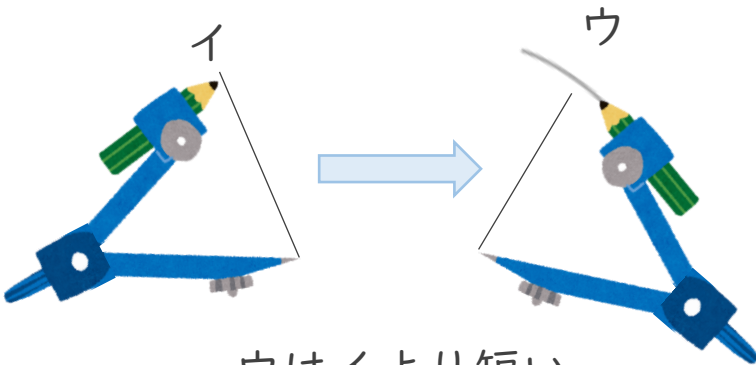


① アにコンパスを
あてて長さをとる



② コンパスの長さを
かえないで、
イやウの長さと
くらべよう

アが一番長い



③ イにコンパスを
あてて長さをかえずに
ウの長さとくらべよう

ウはイより短い

答え： → →





円と球 7

コンパスで長さ比べ



日にち： 月 日

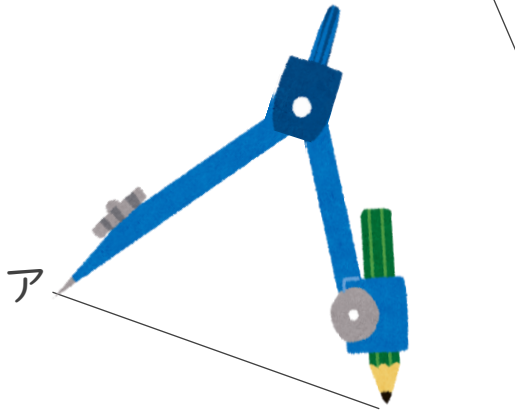
名まえ _____

・ 次の直線の長さをくらべ、長いじゆんに答えましょう。
(うすい字は、なぞりましょう。)

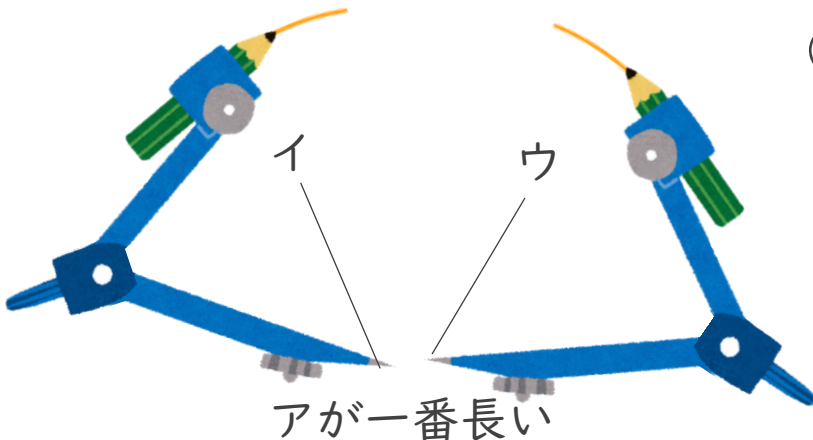
ア

イ

ウ

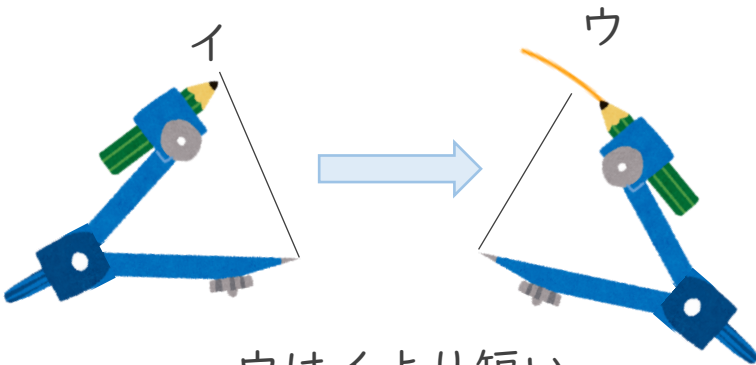


① アにコンパスを
あてて長さをとる



② コンパスの長さを
かえないで、
イやウの長さ
くらべよう

アが一番長い



③ イにコンパスを
あてて長さをかえずに
ウの長さ
くらべよう

ウはイより短い

答え： **ア** → **イ** → **ウ**

