



# 三角形と角 9

◎ 三角定規の角

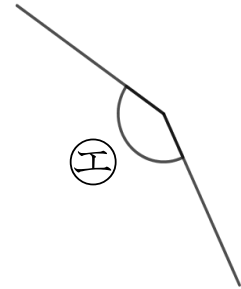
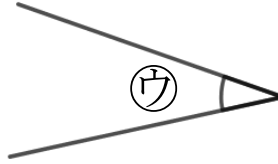
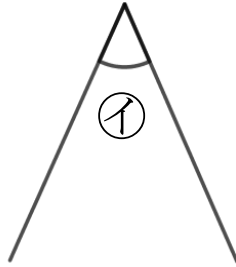
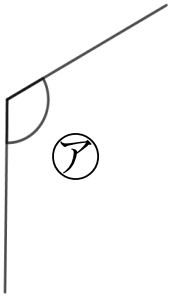


日にち： 月 日

名まえ \_\_\_\_\_

1 次の図で、次の角を見つけて、㉠～㉤で答えましょう。

(うすい字はしっかりなぞりましょう。)



① いちばん大きい角

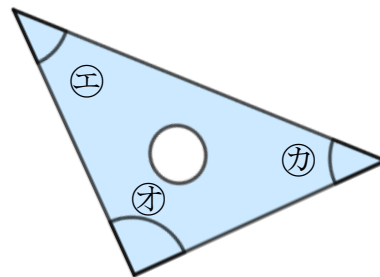
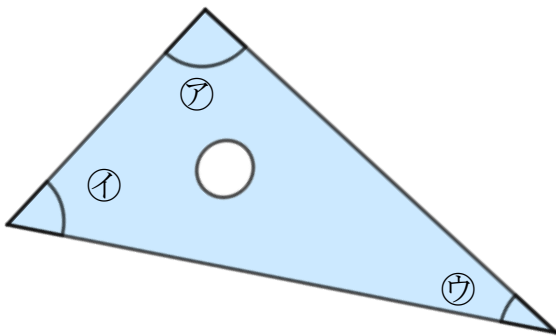
答え： \_\_\_\_\_

② いちばん小さい角

答え： \_\_\_\_\_



2 三角じょうぎの、かどの形を調べましょう。



① 直角になっているかどは、どれですか。

答え： \_\_\_\_\_

② いちばんとがってるかどは、どれですか。

答え： \_\_\_\_\_



# 三角形と角 9

◎ 三角定規の角

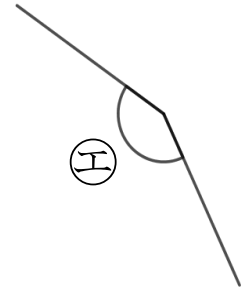
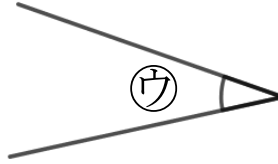
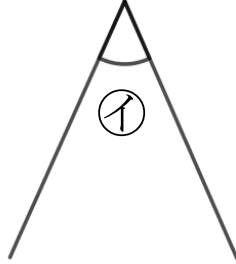
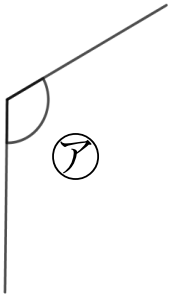


日にち： 月 日

名まえ \_\_\_\_\_

1 次の図で、次の角を見つけて、㉠～㉤で答えましょう。

(うすい字はしっかりなぞりましょう。)



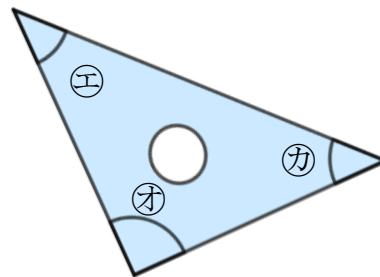
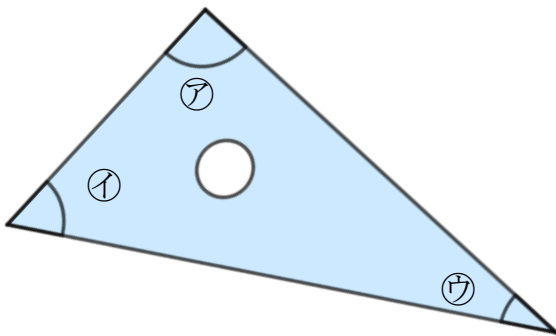
① いちばん大きい角

答え：                       
                    ㉤

② いちばん小さい角

答え：                       
                    ㉢

2 三角じょうぎの、かどの形を調べましょう。



① 直角になっているかどは、どれですか。

答え：                       
                    ㉠, ㉡

② いちばんとがってるかどは、どれですか。

答え：                       
                    ㉢