



三角形と角 3

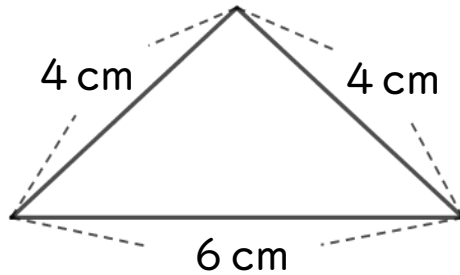
● コンパスを使った
二等辺三角形のかき方



日にち： 月 日


名まえ _____

・ 次の二等辺三角形をかきましょう。(うすい線はしっかりなぞろう。)



① 6 cmの辺を引く。

② コンパスで4 cmのところ
にしるしをつける。



③ 反対がわも4 cmのしるしと
交わるようにしるしをつける。

④ 交わったところと辺のはしを
線でおすぶ。





三角形と角 3

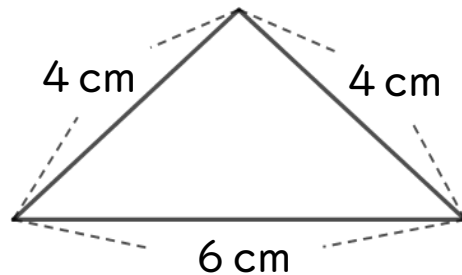
● コンパスを使った
二等辺三角形のかき方



日にち： 月 日


名まえ _____

・ 次の二等辺三角形をかきましょう。(うすい線はしっかりなぞろう。)



① 6 cmの辺を引く。

② コンパスで4 cmのところにするしをつける。



③ 反対がわも4 cmのしるしと交わるようにしるしをつける。

④ 交わったところと辺のはしを線でおすぶ。

