

## 三角形と角 6


● 円を使った  
二等辺三角形のかき方




日にち：            月            日


名まえ \_\_\_\_\_

1 円の中に、二等辺三角形をかきましょう。



2 円の中に、二等辺三角形をかきましょう。





## 三角形と角 6

● 円を使った  
二等辺三角形のかき方

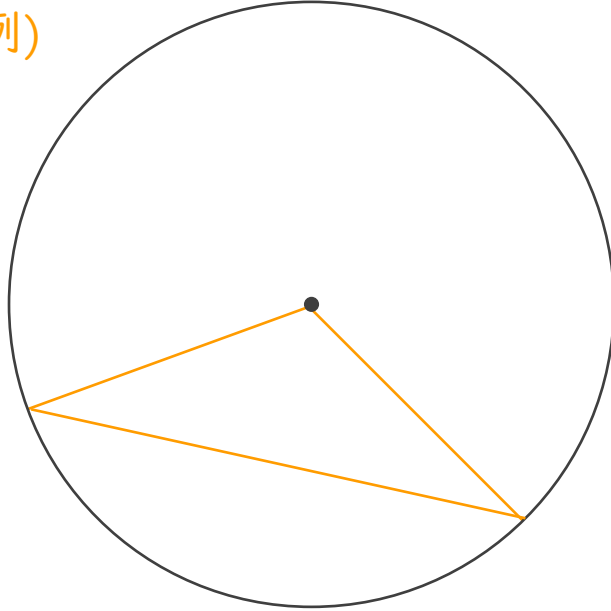


日にち：            月            日

名まえ \_\_\_\_\_

1 円の中に、二等辺三角形をかきましょう。

(例)



2 円の中に、二等辺三角形をかきましょう。

(例)

