



### 円と球 3

● 円の中の一番長い線（直径）

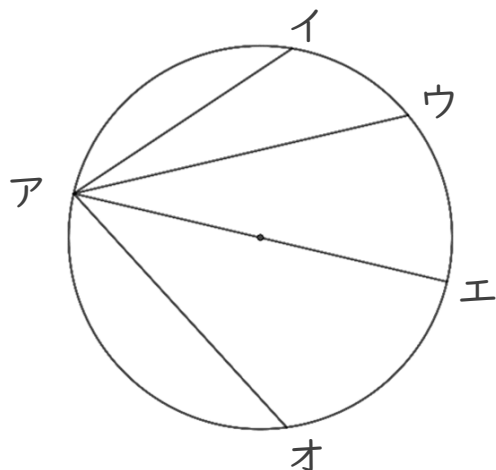


日にち：            月            日

名まえ \_\_\_\_\_

・ 円の中にひいた直線で一番長い直線はどれですか。

①

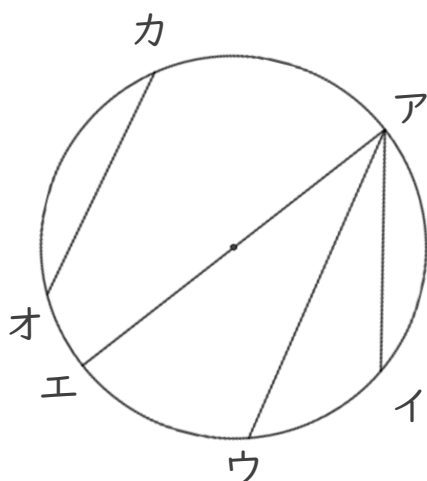


直径が一番長い。

直径は、**中心**を通過している線！

答え： \_\_\_\_\_

②



答え： \_\_\_\_\_



### 円と球 3

● 円の中の一番長い線（直径）

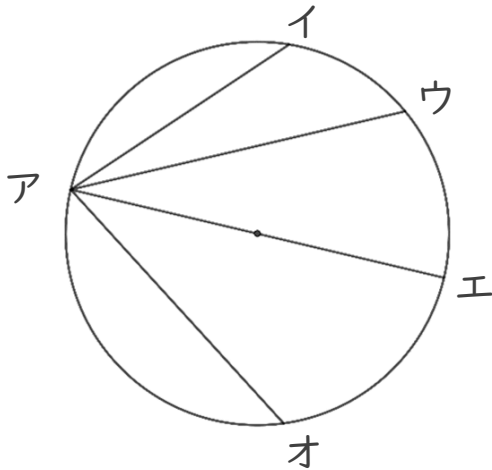


日にち：            月            日

名まえ \_\_\_\_\_

・ 円の中にひいた直線で一番長い直線はどれですか。

①

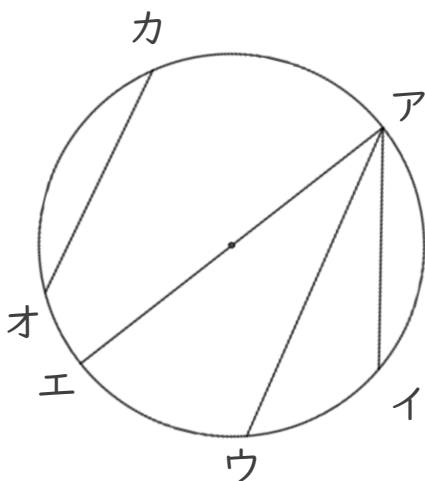


直径が一番長い。

直径は、**中心**を通過している線！

答え： 直線アエ

②



答え： 直線アエ