



円と球 2

● 円の半径や直径の長さ

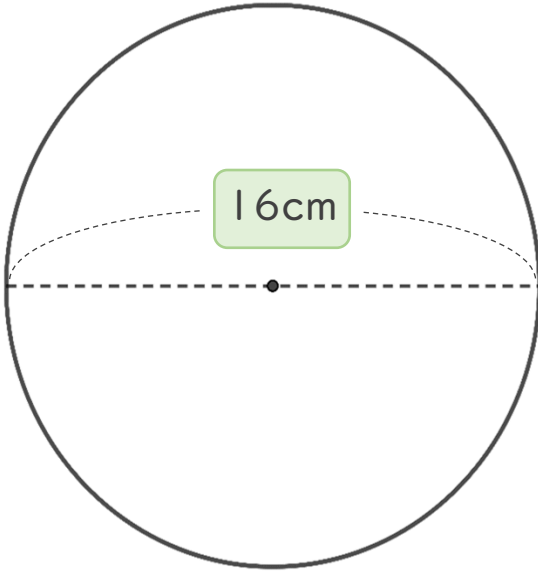


日にち： 月 日

名まえ _____

・ 次の円の半径や直径は何cmですか。(うすい字はなぞりましょう。)

① 半径は何cmですか。

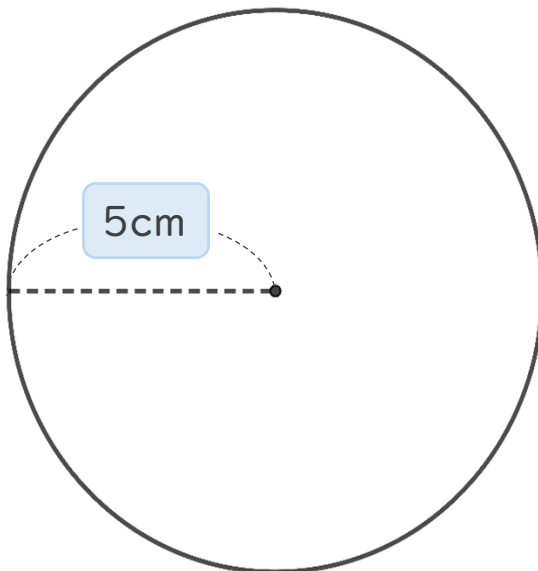


半径は **直径** の半分なので

式：

答え： _____

② 直径は何cmですか。



直径は **半径** の2倍なので

式：

答え： _____





円と球 2

● 円の半径や直径の長さ

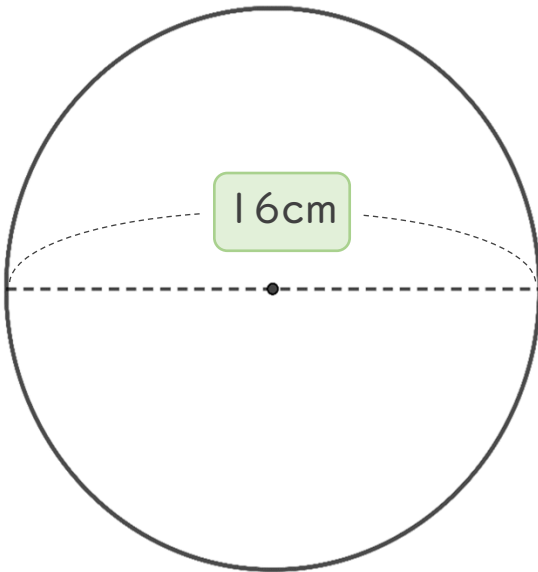
4

日にち： 月 日

名まえ _____

・ 次の円の半径や直径は何cmですか。(うすい字はなぞりましょう。)

① 半径は何cmですか。

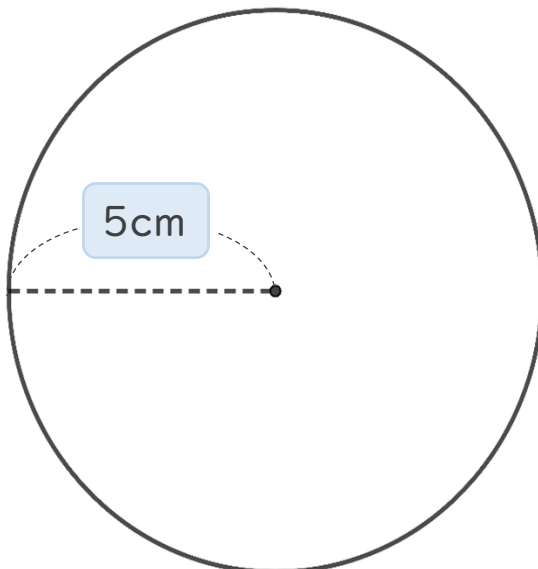


半径は **直径** の半分なので

$$\text{式： } 16 \div 2 = 8$$

答え： 8 cm

② 直径は何cmですか。



直径は **半径** の2倍なので

$$\text{式： } 5 \times 2 = 10$$

答え： 10 cm

