



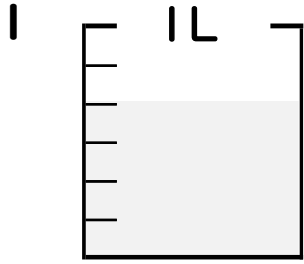
分数 5

● 分数の水のかさの色ぬり



日にち： 月 日

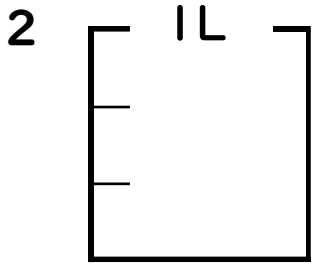
名まえ _____



① $\frac{1}{6}$ Lの 4 分だけ色をぬりましょう。

② 色をぬったところのかさは何Lですか。

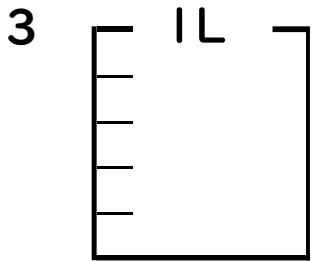
 $\frac{4}{6}$ L



① $\frac{1}{3}$ Lの 2 分だけ色をぬりましょう。

② 色をぬったところのかさは何Lですか。

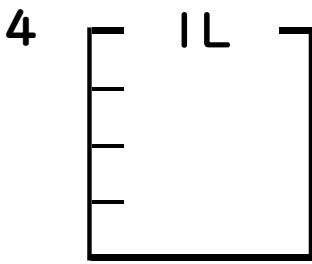
 L



① $\frac{1}{5}$ Lの 4 分だけ色をぬりましょう。

② 色をぬったところのかさは何Lですか。

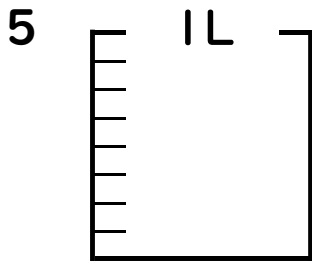
 L



① $\frac{1}{4}$ Lの 3 分だけ色をぬりましょう。

② 色をぬったところのかさは何Lですか。

 L



① $\frac{1}{8}$ Lの 1 分だけ色をぬりましょう。

② 色をぬったところのかさは何Lですか。

 L





分数 5

◎ 分数の水のかさの色ぬり



日にち： 月 日

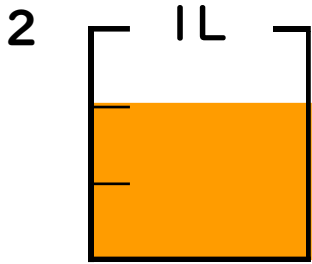
名まえ _____



① $\frac{1}{6}$ Lの 4 こ分だけ色をぬりましょう。

② 色をぬったところのかさは何Lですか。

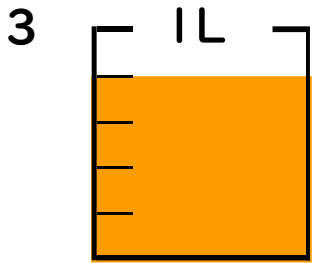
$\frac{4}{6}$ L



① $\frac{1}{3}$ Lの 2 こ分だけ色をぬりましょう。

② 色をぬったところのかさは何Lですか。

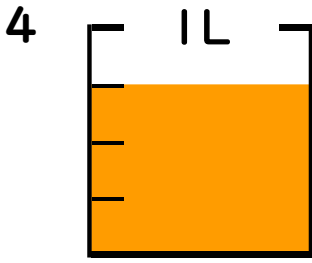
$\frac{2}{3}$ L



① $\frac{1}{5}$ Lの 4 こ分だけ色をぬりましょう。

② 色をぬったところのかさは何Lですか。

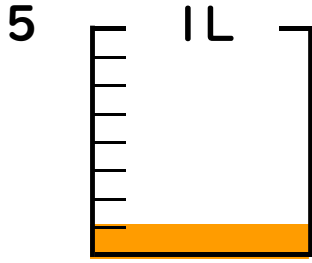
$\frac{4}{5}$ L



① $\frac{1}{4}$ Lの 3 こ分だけ色をぬりましょう。

② 色をぬったところのかさは何Lですか。

$\frac{3}{4}$ L



① $\frac{1}{8}$ Lの 1 こ分だけ色をぬりましょう。

② 色をぬったところのかさは何Lですか。

$\frac{1}{8}$ L

