



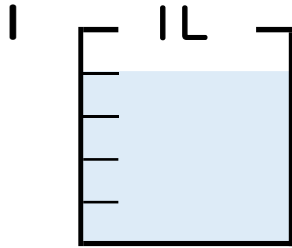
分数 4

● 分数の水のかさの読み取り



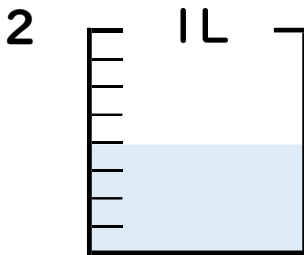
日にち： 月 日

名まえ _____



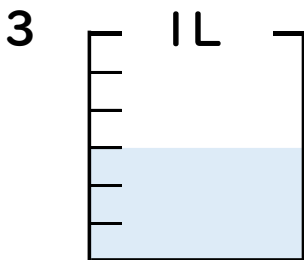
① 図の水のかさは1めもりの何こ分ですか？ _____ 半分

② 水のかさは、何^{リットル}Lですか？ _____ L



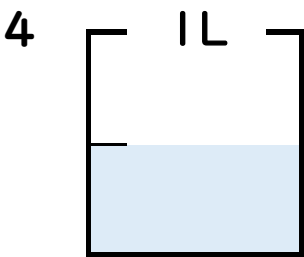
① 図の水のかさは1めもりの何こ分ですか？ _____ 3分

② 水のかさは、何^{リットル}Lですか？ _____ L



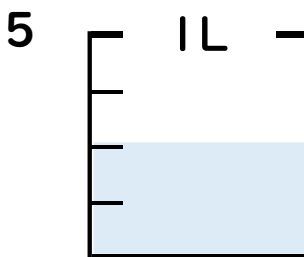
① 図の水のかさは1めもりの何こ分ですか？ _____ 2分

② 水のかさは、何^{リットル}Lですか？ _____ L



① 図の水のかさは1めもりの何こ分ですか？ _____ 1分

② 水のかさは、何^{リットル}Lですか？ _____ L



① 図の水のかさは1めもりの何こ分ですか？ _____ 3分

② 水のかさは、何^{リットル}Lですか？ _____ L



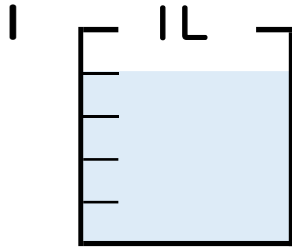
分数 4

● 分数の水のかさの読み取り



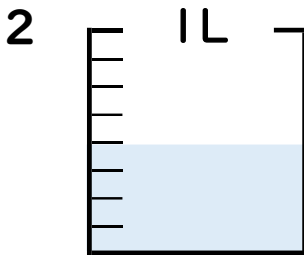
日にち： 月 日

名まえ _____



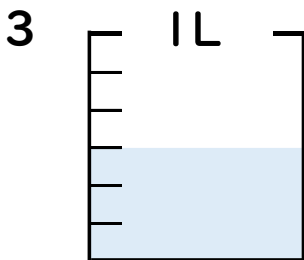
① 図の水のかさは1めもりの何こ分ですか？ 4 こ分

② 水のかさは、何^{リットル}Lですか？ $\frac{4}{5}$ L



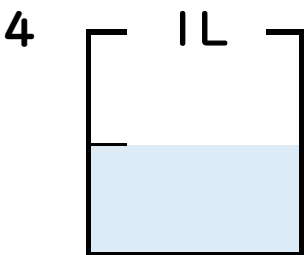
① 図の水のかさは1めもりの何こ分ですか？ 4 こ分

② 水のかさは、何^{リットル}Lですか？ $\frac{4}{8}$ L



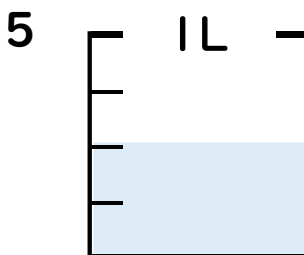
① 図の水のかさは1めもりの何こ分ですか？ 3 こ分

② 水のかさは、何^{リットル}Lですか？ $\frac{3}{6}$ L



① 図の水のかさは1めもりの何こ分ですか？ 1 こ分

② 水のかさは、何^{リットル}Lですか？ $\frac{1}{2}$ L



① 図の水のかさは1めもりの何こ分ですか？ 2 こ分

② 水のかさは、何^{リットル}Lですか？ $\frac{2}{4}$ L

