



# 分数 2

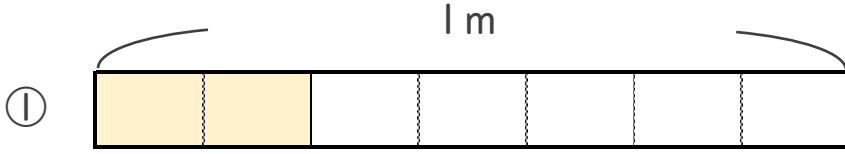
● 分数の長さの読み取り



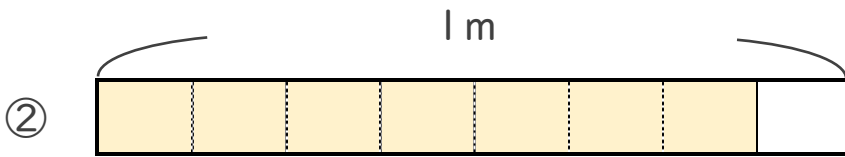
日にち：            月            日

名まえ \_\_\_\_\_

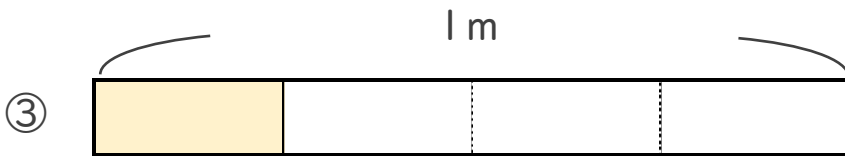
・ 色をぬったところの長さは、何mでしょう。



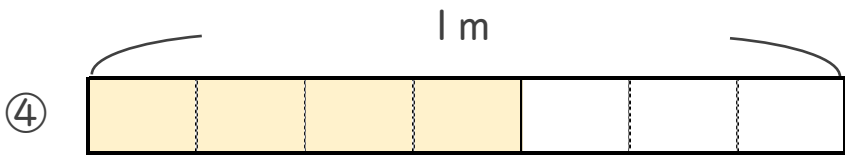
こたえ： \_\_\_\_\_ m



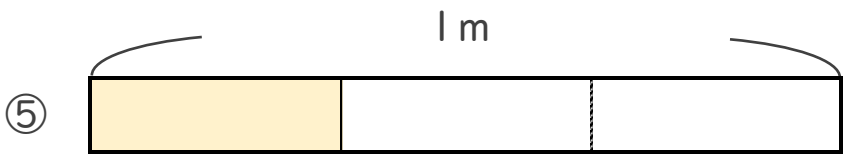
こたえ： \_\_\_\_\_ m



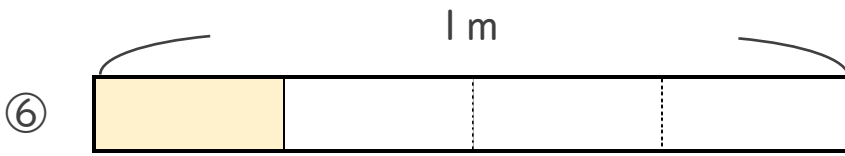
こたえ： \_\_\_\_\_ m



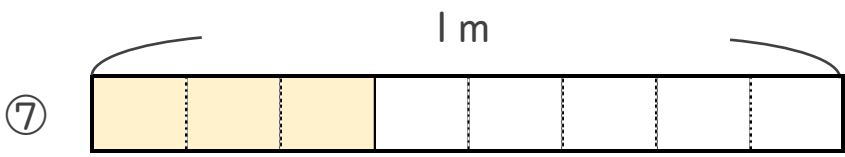
こたえ： \_\_\_\_\_ m



こたえ： \_\_\_\_\_ m



こたえ： \_\_\_\_\_ m



こたえ： \_\_\_\_\_ m





# 分数 2

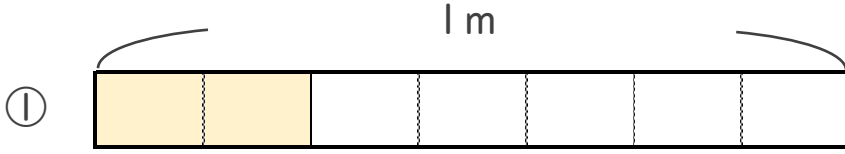
● 分数の長さの読み取り



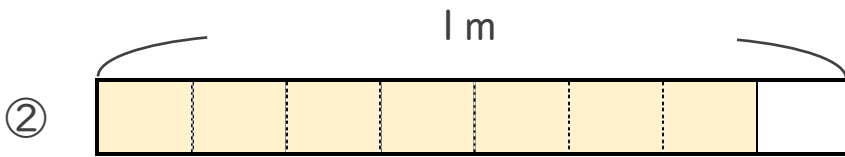
日にち：            月            日

名まえ \_\_\_\_\_

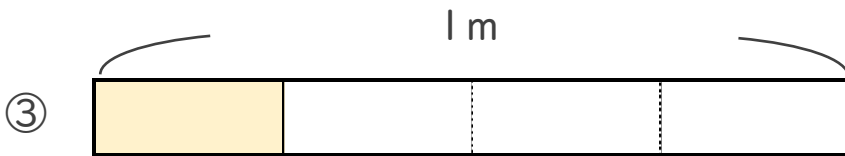
・ 色をぬったところの長さは、何mでしょう。



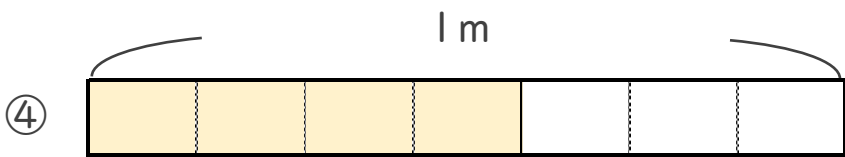
こたえ： $\frac{2}{7}$  m



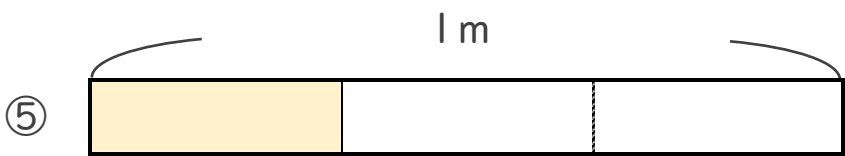
こたえ： $\frac{7}{8}$  m



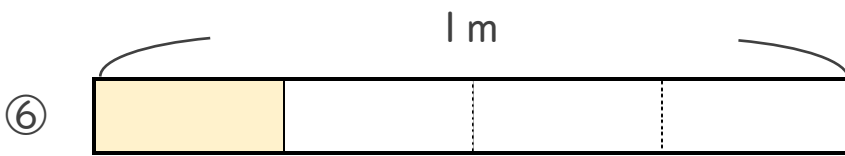
こたえ： $\frac{1}{4}$  m



こたえ： $\frac{4}{7}$  m



こたえ： $\frac{1}{3}$  m



こたえ： $\frac{1}{4}$  m



こたえ： $\frac{3}{8}$  m

