



## 円と球 4

● 半径の長さから円をかく

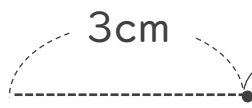
4

日にち：            月            日

名まえ \_\_\_\_\_

・コンパスを使って、次の円をかきましょう。

### ① 半径が3cmの円



① コンパスを 3 cm に開いて  
中心にはりをさして  
円をかく

② かいた円の直径が  
6 cmになっているか  
チェックしよう

### ② 半径が4cmの円

① コンパスを   
に開いて円をかく

② かいた円の直径が  
 になっているか  
チェックしよう



## 円と球 4

● 半径の長さから円をかく

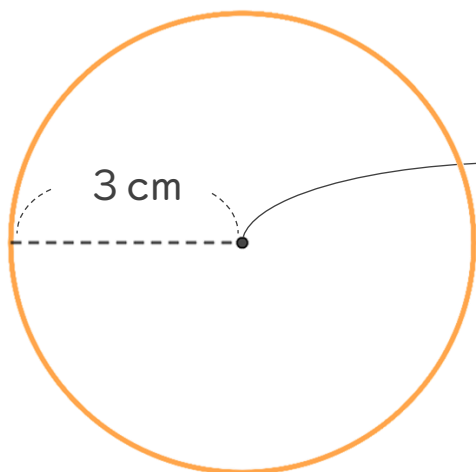
4

日にち：            月            日

名まえ \_\_\_\_\_

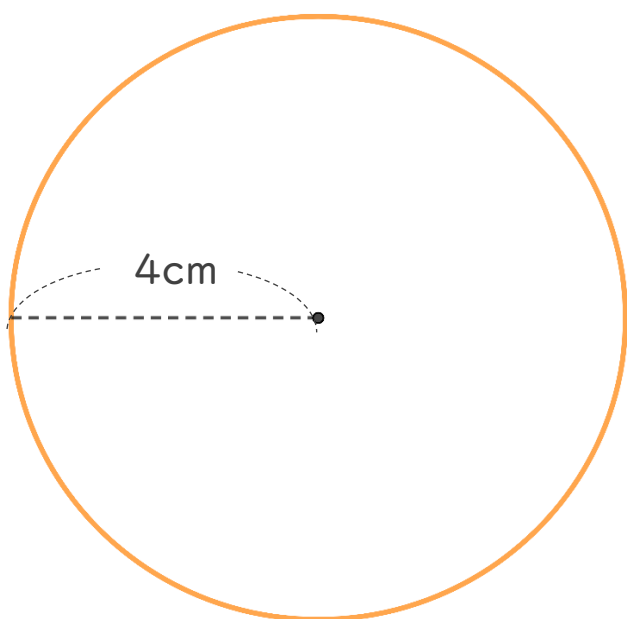
・コンパスを使って、次の円をかきましょう。

### ① 半径が3cmの円



- ① コンパスを 3 cm に開いて **中心** にはりをさして円をかく
- ② かいた円の直径が 6 cm になっているかチェックしよう

### ② 半径が4cmの円



- ① コンパスを **4 cm** に開いて円をかく
- ② かいた円の直径が **8 cm** になっているかチェックしよう