



円と球 4

● 半径の長さから円をかく

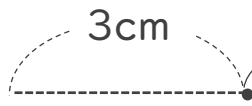


日にち： 月 日

名まえ _____

・コンパスを使って、次の円をかきましょう。

① 半径が 3 cm の円



① コンパスを 3 cm に開いて
中心にはりをさして
円をかく

② かいた円の直径が
6 cm になっているか
チェックしよう

② 半径が 4 cm の円

① コンパスを
に開いて円をかく

② かいた円の直径が
 になっているか
チェックしよう



円と球 4

● 半径の長さから円をかく

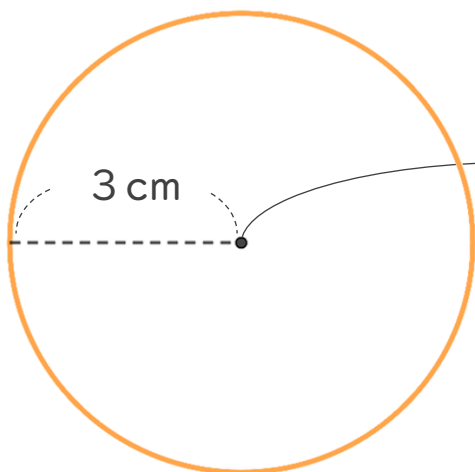


日にち： 月 日

名まえ _____

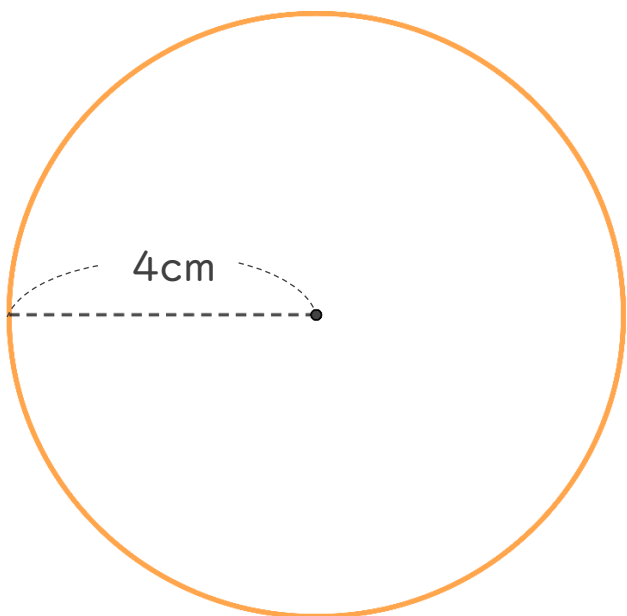
・コンパスを使って、次の円をかきましょう。

① 半径が 3 cm の円



- ① コンパスを 3 cm に開いて **中心** にはりをさして円をかく
- ② かいた円の直径が 6 cm になっているかチェックしよう

② 半径が 4 cm の円



- ① コンパスを **4 cm** に開いて円をかく
- ② かいた円の直径が **8 cm** になっているかチェックしよう