



小数の意味と表し方7

● 小数で表す1cmより短い長さ

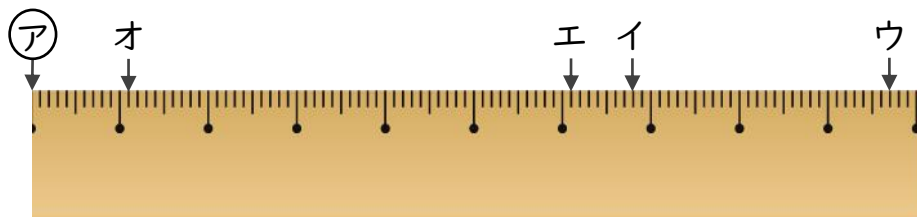


日にち： 月 日

名まえ _____

・ ㊦からイ、ウ、エ、オまでの長さは、それぞれ何cmですか。
(うすい字はなぞりましょう。)

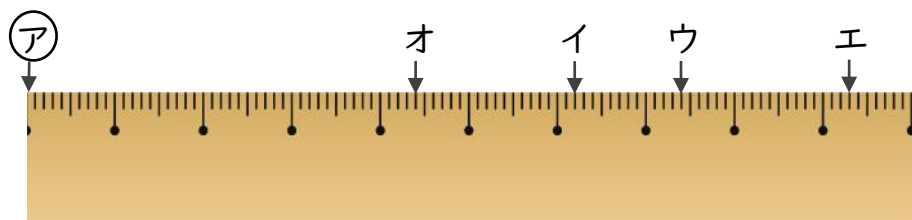
①



答え ㊦からイ 6.8 cm ㊦からウ

 ㊦からエ ㊦からオ

②



答え ㊦からイ ㊦からウ

 ㊦からエ ㊦からオ



小数の意味と表し方7

● 小数で表す1cmより短い長さ

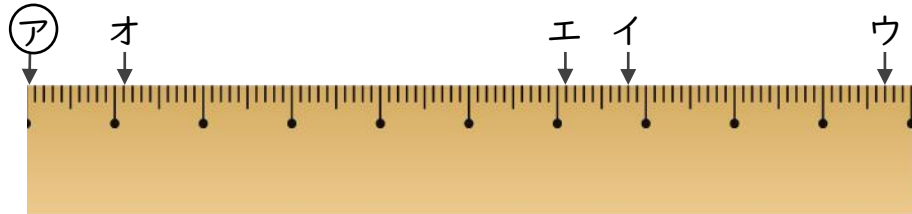


日にち： 月 日

名まえ _____

・ ㊦からイ、ウ、エ、オまでの長さは、それぞれ何cmですか。
(うすい字はなぞりましょう。)

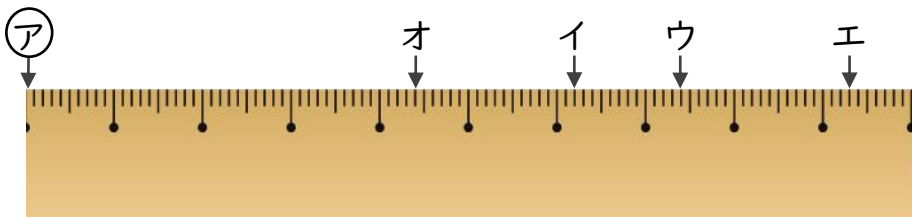
①



答え ㊦からイ 6.8 cm ㊦からウ 9.7 cm

 ㊦からエ 6.1 cm ㊦からオ 1.1 cm

②



答え ㊦からイ 6.2 cm ㊦からウ 7.4 cm

 ㊦からエ 9.3 cm ㊦からオ 4.4 cm