

小数のたし算とひき算 13

● 小数のたし算の文章問題





日にち： 月 日

名まえ _____

・次の問いに答えましょう。（うすい字は、しっかりなぞりましょう。）

- 1 びんには0.3L、バケツには5.6Lの水が入っています。
水は合わせて何Lありますか。




筆算

式：0.3 +

答え： _____

- 2 びんには1.3L、バケツにはびんより3.7L多く水が入っています。
バケツには何Lの水が入っていますか。




筆算

式：

答え： _____





小数のたし算とひき算 13

● 小数のたし算の文章問題

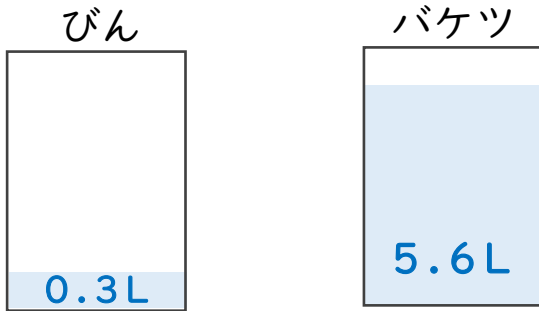


日にち： 月 日

名まえ

・ 次の問いに答えましょう。（うすい字は、しっかりなぞりましょう。）

- 1 びんには0.3L、バケツには5.6Lの水が入っています。
水は合わせて何Lありますか。



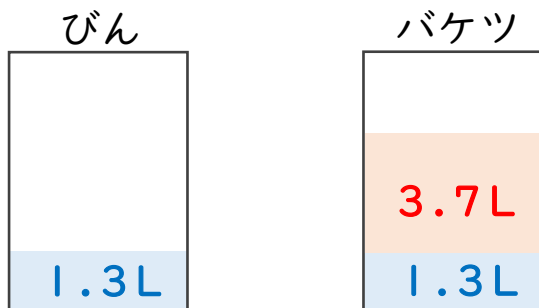
筆算

$$\begin{array}{r} 0.3 \\ + 5.6 \\ \hline 5.9 \end{array}$$

式： $0.3 + 5.6 = 5.9$

答え： 5.9L

- 2 びんには1.3L、バケツにはびんより3.7L多く水が入っています。
バケツには何Lの水が入っていますか。



筆算

$$\begin{array}{r} 1.3 \\ + 3.7 \\ \hline 4.0 \end{array}$$

式： $1.3 + 3.7 = 4$

答え： 4L

