



小数のたし算とひき算 14

● 小数のひき算の文章問題

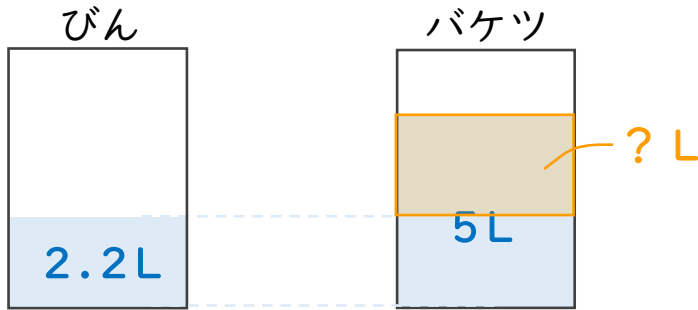


日にち： 月 日

名まえ _____

・次の問いに答えましょう。（うすい字は、しっかりなぞりましょう。）

- 1 びんには2.2L、バケツには5Lの水が入っています。
バケツには、びんより何L多く水が入っていますか。

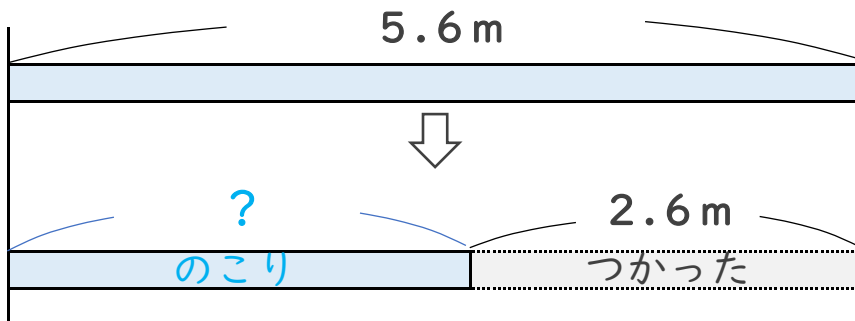


筆算

式： $5 - 2.2 =$

答え： _____

- 2 5.6mのリボンがあります。今日2.6m使うと、のこりのリボンの長さは何mになりますか。



筆算

式：

答え： _____



小数のたし算とひき算 14

● 小数のひき算の文章問題

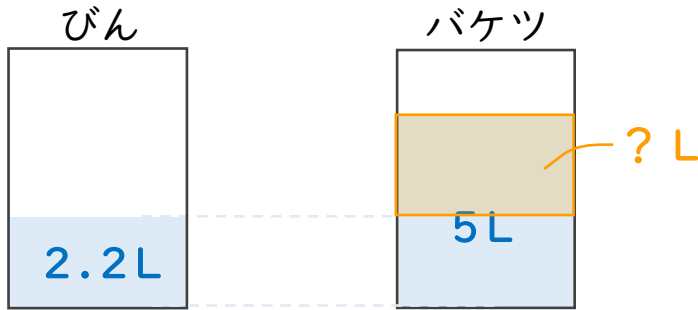


日にち： 月 日

名まえ _____

・次の問いに答えましょう。(うすい字は、しっかりなぞりましょう。)

- 1 びんには2.2L、バケツには5Lの水が入っています。
バケツには、びんより何L多く水が入っていますか。



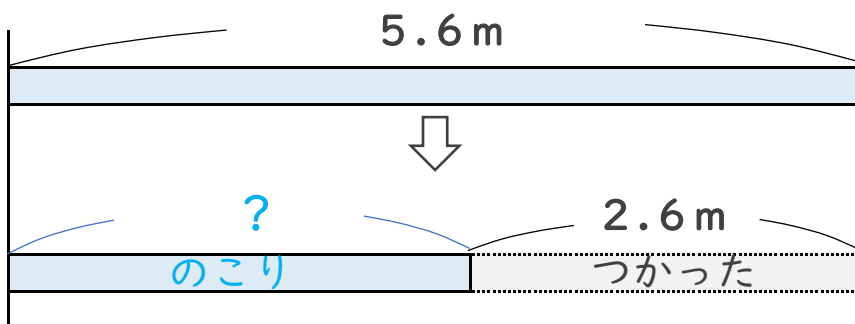
筆算

$$\begin{array}{r} 5.0 \\ - 2.2 \\ \hline 2.8 \end{array}$$

式： $5 - 2.2 = 2.8$

答え： 2.8L

- 2 5.6mのリボンがあります。今日2.6m使うと、のこりのリボンの長さは何mになりますか。



筆算

$$\begin{array}{r} 5.6 \\ - 2.6 \\ \hline 3.0 \end{array}$$

式： $5.6 - 2.6 = 3$

答え： 3m