



小数の意味と表し方II

● 小数の位置を数直線へ書きこむ

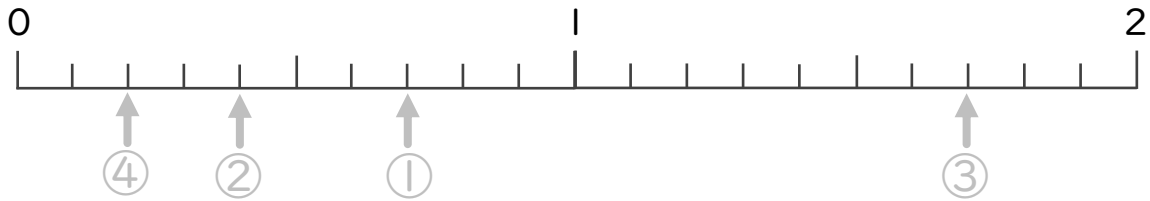


日にち： 月 日

名まえ

・ 次の数を、数直線に ↑ で数を書きましょう。
(うすい字はしっかりなぞりましょう。)

- ① 0.7 ② 0.4 ③ 1.7 ④ 0.2



- ⑤ 1.1 ⑥ 1.9 ⑦ 0.6 ⑧ 2



- ⑨ 0.6 ⑩ 1.6 ⑪ 0.9 ⑫ 1.5





小数の意味と表し方II

● 小数の位置を数直線へ書きこむ



日にち： 月 日

名まえ _____

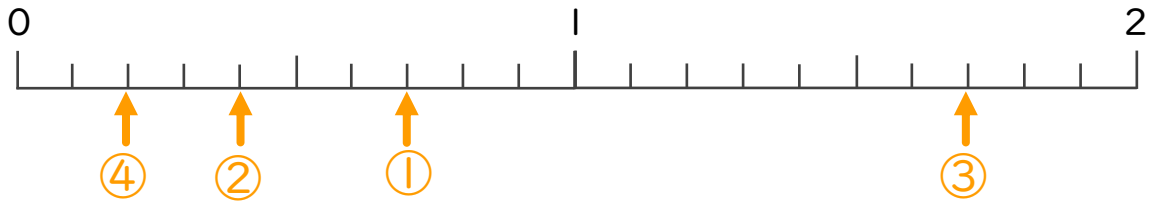
・ 次の数を、数直線に ↑ で数を書きましょう。
(うすい字はしっかりなぞりましょう。)

① 0.7

② 0.4

③ 1.7

④ 0.2

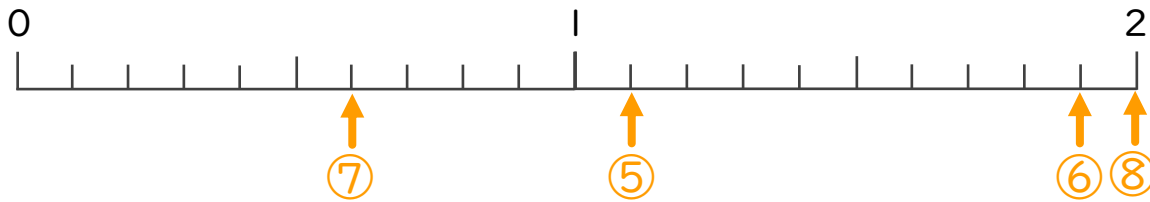


⑤ 1.1

⑥ 1.9

⑦ 0.6

⑧ 2



⑨ 0.6

⑩ 1.6

⑪ 0.9

⑫ 1.5

