



□を使った式 10

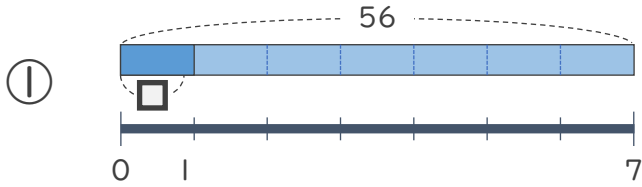
● 数 ÷ □ の
□ をもとめる計算



日にち： 月 日

名まえ _____

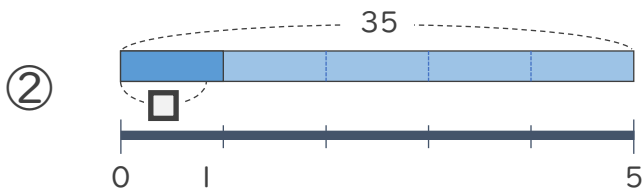
・ □ にあてはまる数をもとめましょう。(うすい字はなぞりましょう)



$$56 \div \square = 7$$

$$\square = 56 \div 7$$

$$\square =$$



$$35 \div \square = 5$$

$$\square =$$

$$\square =$$



□を使った式 10

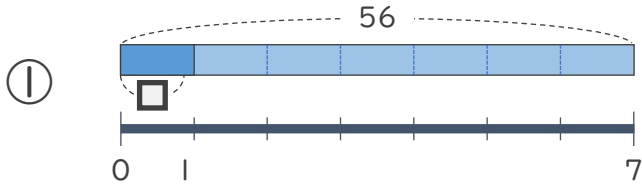
● 数 ÷ □ の
□ をもとめる計算



日にち： 月 日

名まえ _____

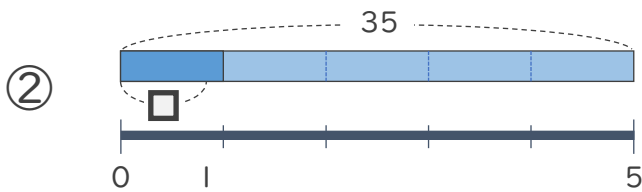
・ □ にあてはまる数をもとめましょう。(うすい字はなぞりましょう)



$$56 \div \square = 7$$

$$\square = 56 \div 7$$

$$\square = 8$$



$$35 \div \square = 5$$

$$\square = 35 \div 5$$

$$\square = 7$$