



小数の意味と表し方 10

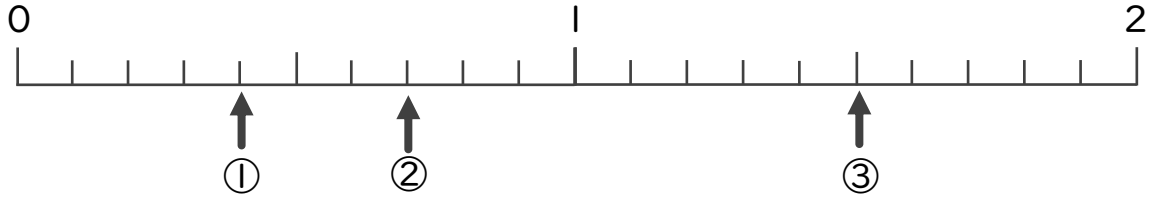
● 数直線の小数の読みとり



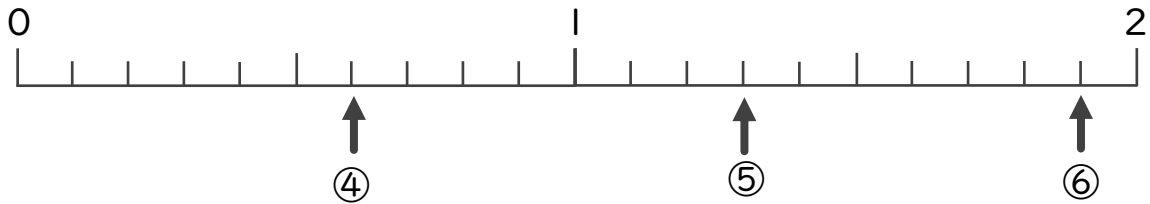
日にち： 月 日

名まえ _____

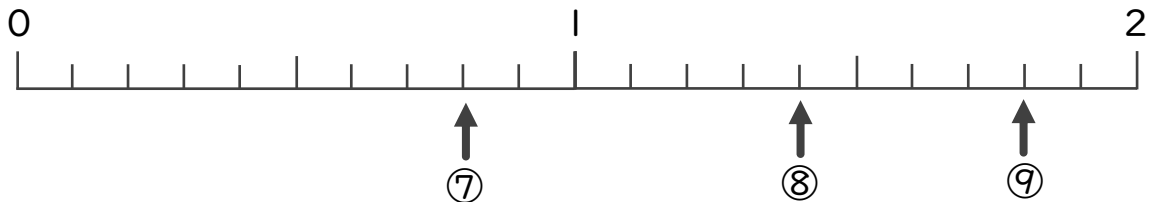
・ 下の数直線を見て ↑ のめもりが表す数を書きましょう。
(うすい字はしっかりなぞりましょう。)



① 0.4 ② 0.7 ③ 1.5



④ ⑤ ⑥



⑦ ⑧ ⑨



小数の意味と表し方 10

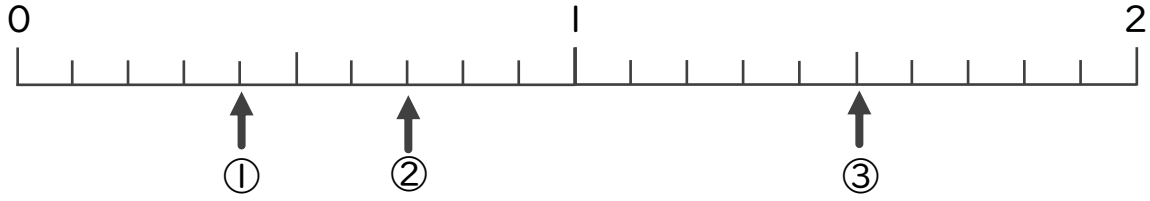
数直線の小数の読みとり



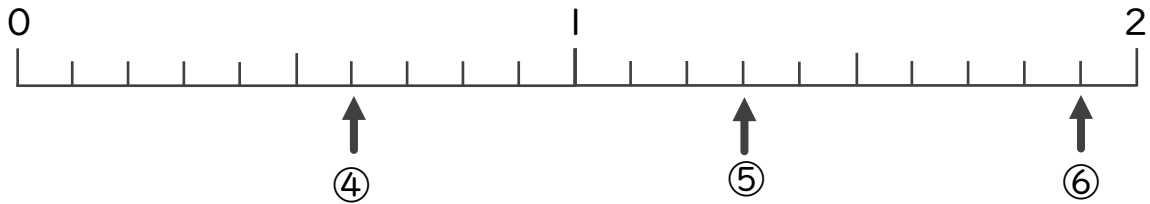
日にち： 月 日

名まえ

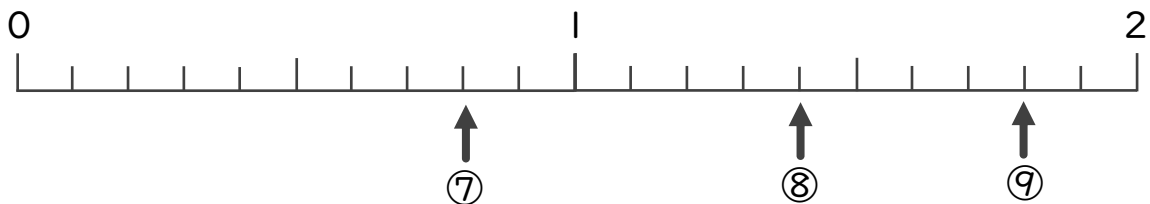
・下の数直線を見て ↑ のめもりが表す数を書きましょう。
(うすい字はしっかりなぞりましょう。)



① 0.4 ② 0.7 ③ 1.5



④ 0.6 ⑤ 1.3 ⑥ 1.9



⑦ 0.8 ⑧ 1.4 ⑨ 1.8