



## □を使った式 8

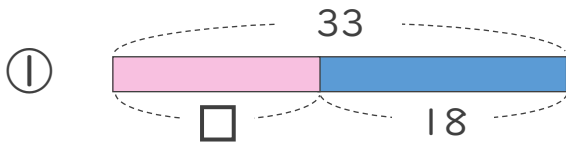
● 数-□の□を  
もとめる計算



日にち：            月            日

名まえ \_\_\_\_\_

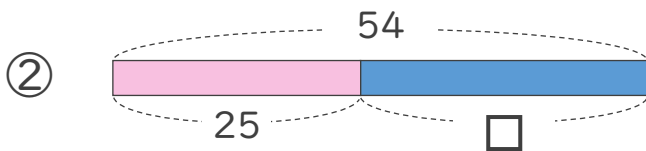
- にあてはまる数をもとめましょう。



$$33 - \square = 18$$

$$\square =$$

$$\square =$$



$$54 - \square = 25$$

$$\square =$$

$$\square =$$



## □を使った式 8

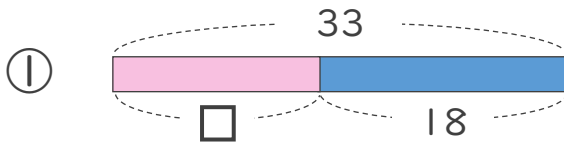
● 数-□の□を  
もとめる計算



日にち：        月        日

名まえ \_\_\_\_\_

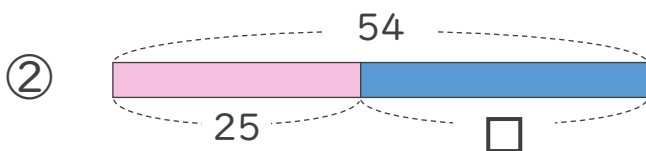
- にあてはまる数をもとめましょう。



$$33 - \square = 18$$

$$\square = 33 - 18$$

$$\square = 15$$



$$54 - \square = 25$$

$$\square = 54 - 25$$

$$\square = 29$$

