



時ごとと時間の もとめかた 8

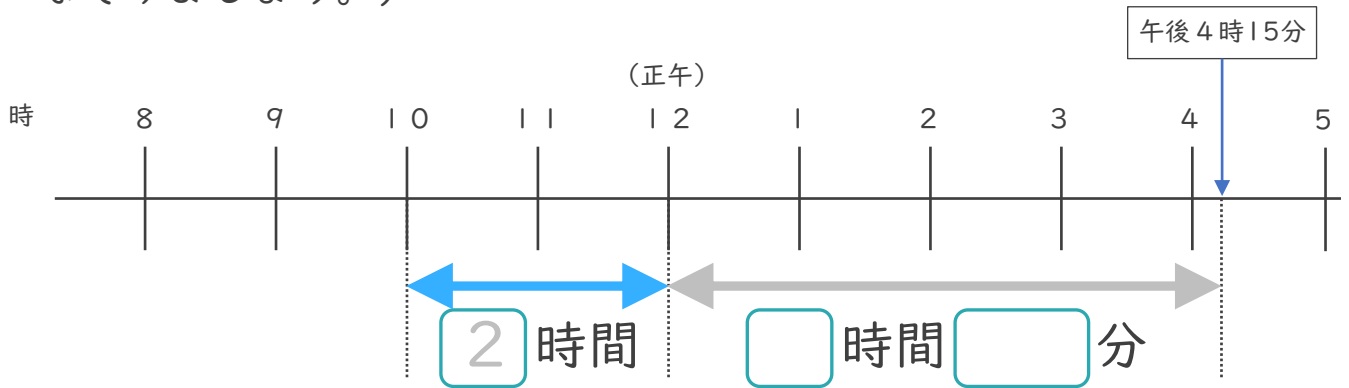
4

● 正午をはさむ計算

日にち： 月 日

名まえ _____

1 午前10時から午後4時15分までの時間をもとめます。(うすい字はなぞりましょう。)

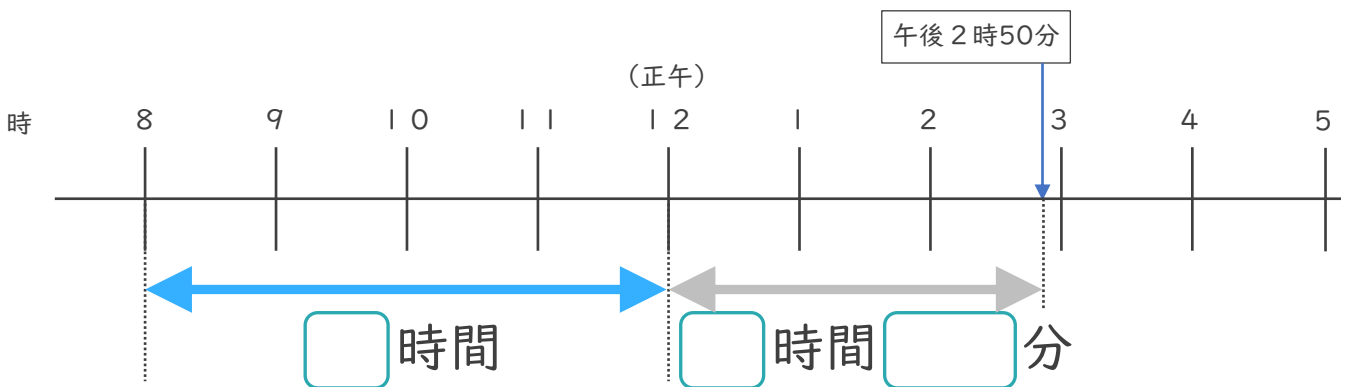


① □にあてはまる数を書きましょう。

② 午前10時から午後4時15分までの時間は何時間何分ですか。

答え (時間 分)

2 午前8時から午後2時50分までの時間をもとめます。



① □にあてはまる数を書きましょう。

② 午前8時から午後2時50分までの時間は何時間何分ですか。

答え ()





時ごとと時間の
もとめかた 8

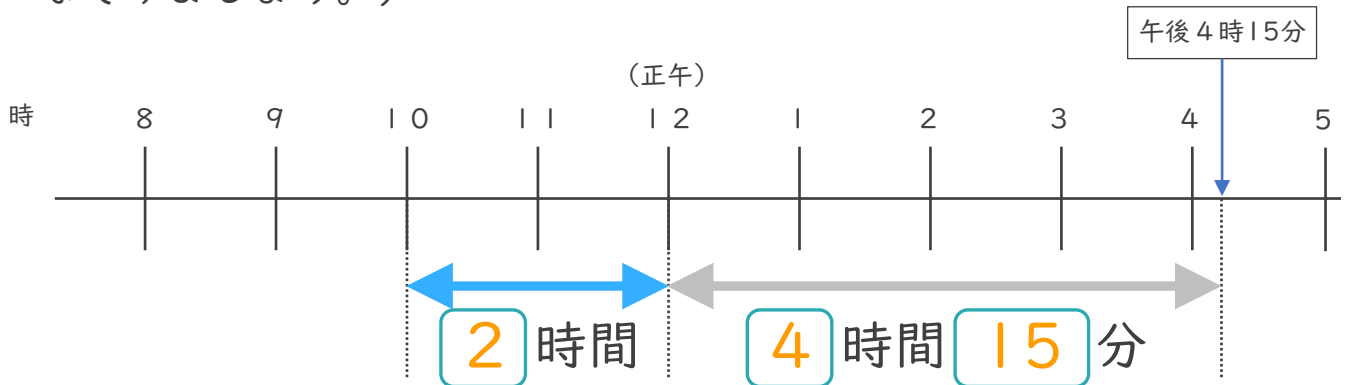


● 正午をはさむ計算

日にち： 月 日

名まえ _____

1 午前10時から午後4時15分までの時間をもとめます。(うすい字はなぞりましょう。)

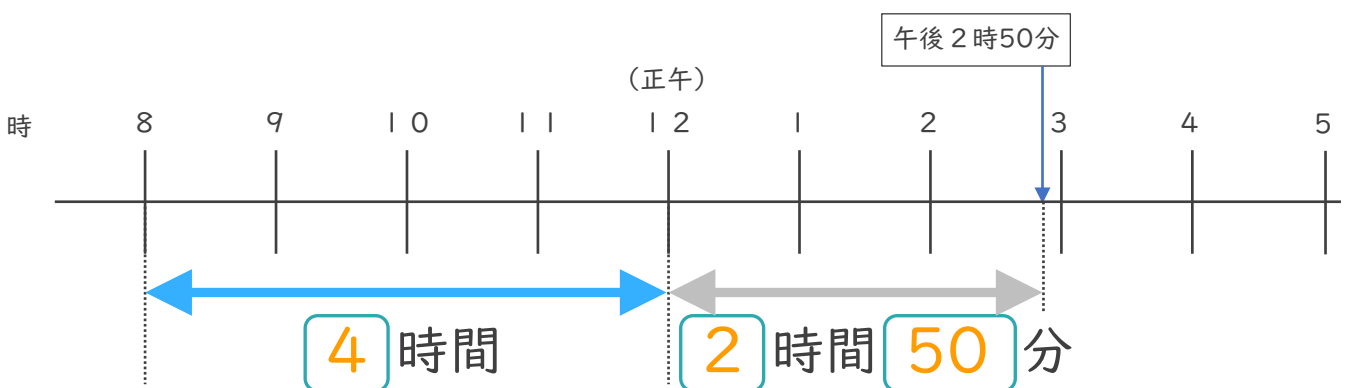


① にあてはまる数を書きましょう。

② 午前10時から午後4時15分までの時間は何時間何分ですか。

答え (6時間15分)

2 午前8時から午後2時50分までの時間をもとめます。



① にあてはまる数を書きましょう。

② 午前8時から午後2時50分までの時間は何時間何分ですか。

答え (6時間50分)

