



# 三角形と角 10

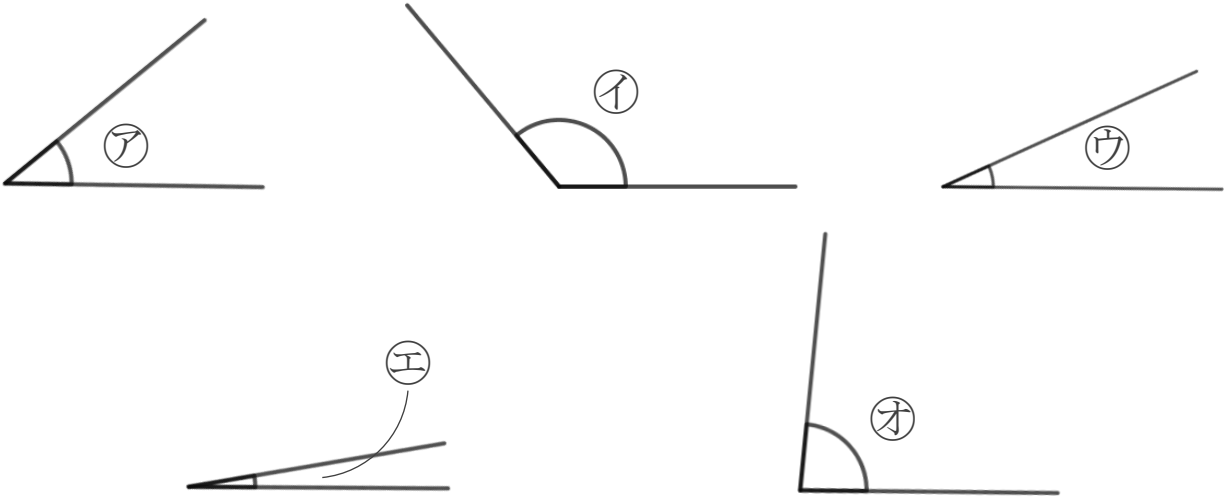
● 角を大きい  
じゅんにならべる



日にち：            月            日

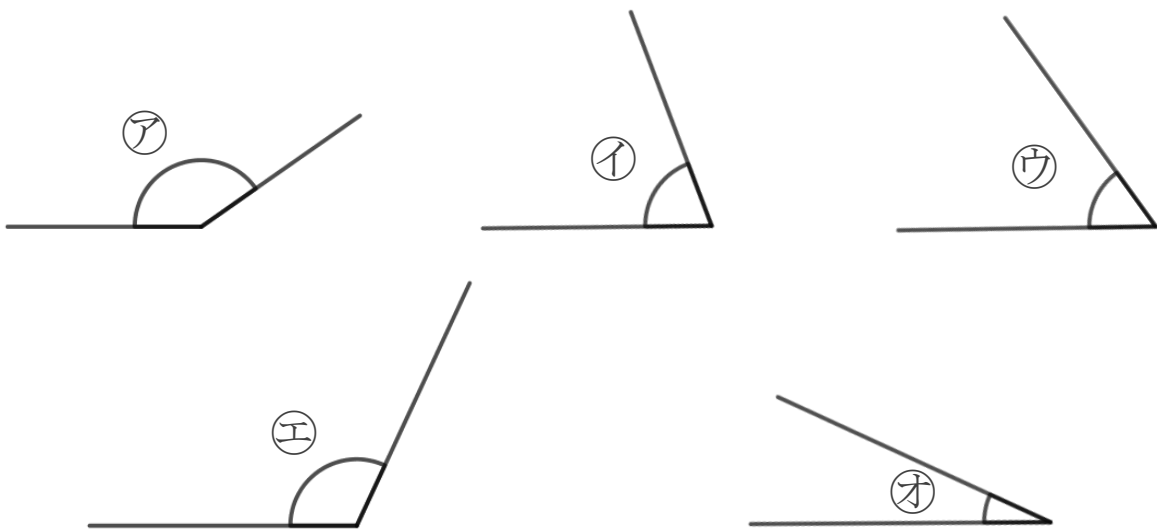
名まえ \_\_\_\_\_

1 次の角の大きさをくらべて、小さいじゅんに書きましょう。  
(うすい字はなぞりましょう。)



答え：            →    (ウ)    →    (ア)    →            →

2 次の角の大きさをくらべて、大きいじゅんに書きましょう。



答え：            →            →    (イ)    →            →



# 三角形と角 10

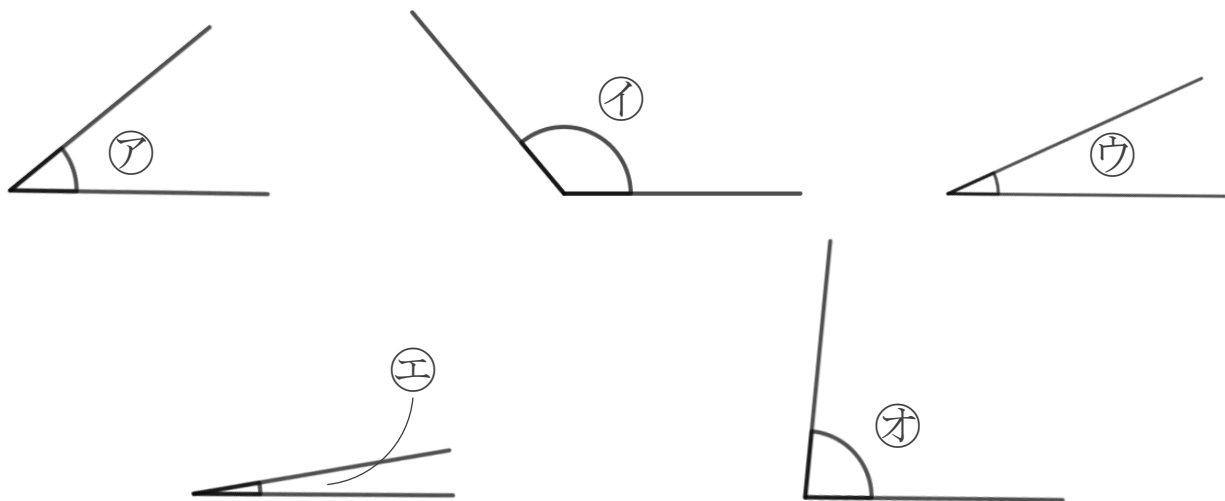
● 角を大きい  
じゅんにならべる

4

日にち：            月            日

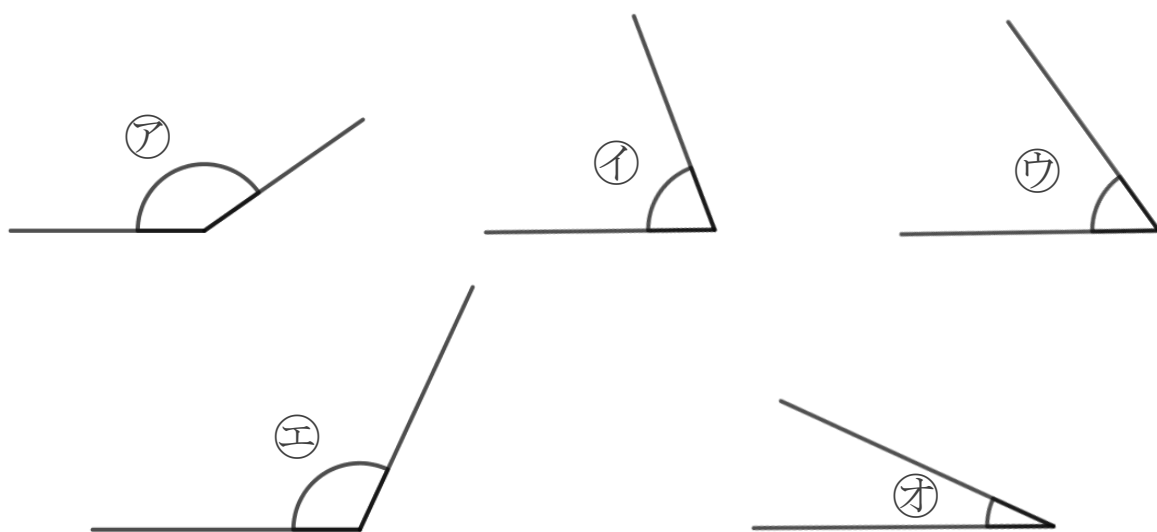
名まえ \_\_\_\_\_

1 次の角の大きさをくらべて、小さいじゅんに書きましょう。  
(うすい字はなぞりましょう。)



答え：    Ⓔ → Ⓤ → Ⓐ → ⓞ → Ⓘ

2 次の角の大きさをくらべて、大きいじゅんに書きましょう。



答え：    Ⓐ → Ⓔ → Ⓘ → Ⓤ → ⓞ

