



分数 8

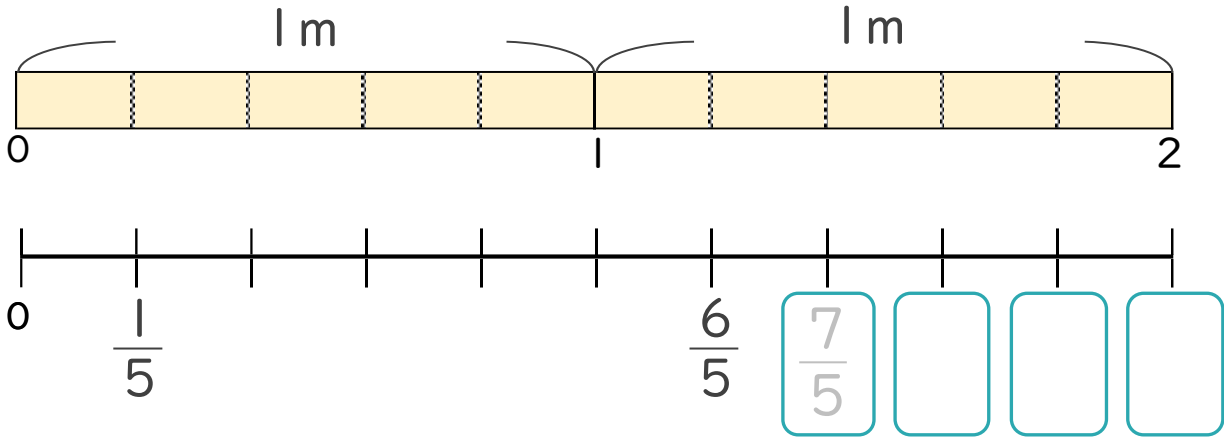
● 1より大きい分数を数直線に表す



日にち： 月 日

名まえ _____

1 次の図を見て答えましょう。(うすい字はなぞりましょう。)



① にあてはまる分数を書きましょう。

② $\frac{1}{5}$ mの10こ分の長さは何mですか。

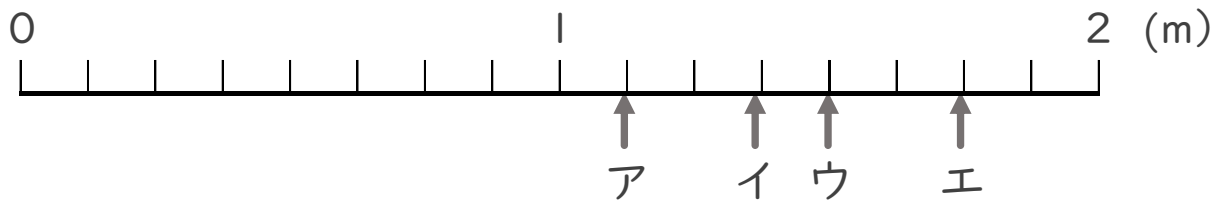
整数 2 m

分数と整数でそれぞれ表しましょう。

分数 m

2 ア～エのめもりが表す長さは、それぞれ何mですか。

(うすい字はなぞりましょう。)



答え ア $\frac{9}{8}$ m イ m ウ m エ m





分数 8

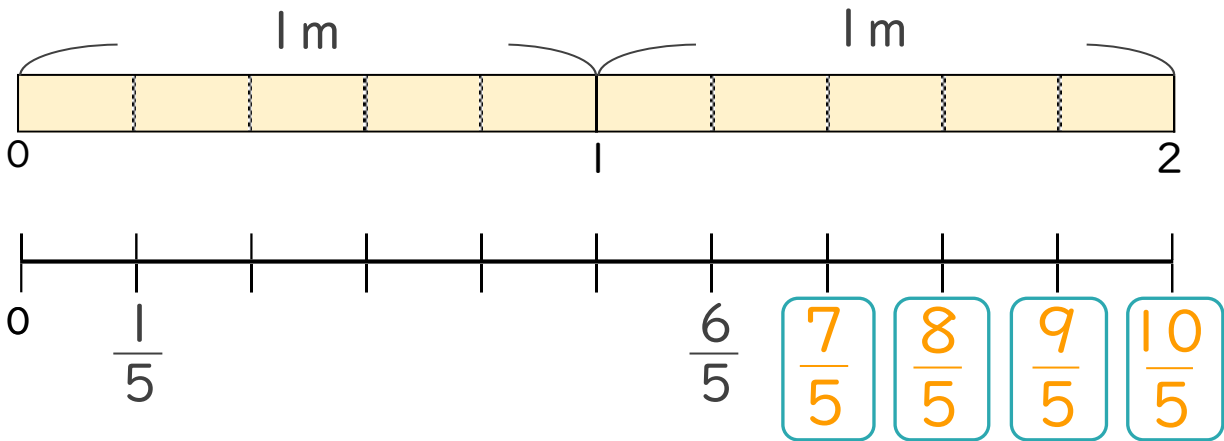
1より大きい分数を数直線に表す



日にち： 月 日

名まえ _____

1 次の図を見て答えましょう。(うすい字はなぞりましょう。)



① にあてはまる分数を書きましょう。

② $\frac{1}{5}$ mの10こ分の長さは何mですか。

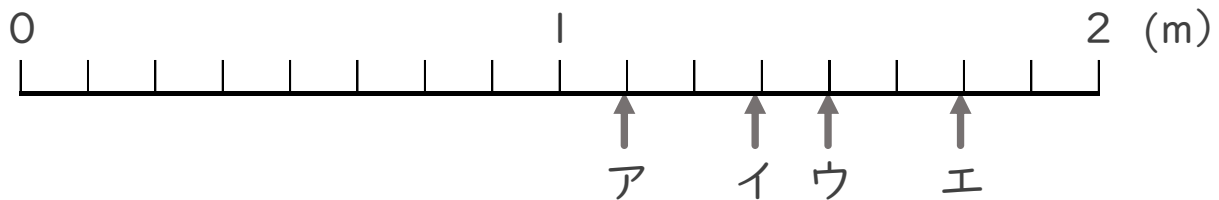
整数 2 m

分数と整数でそれぞれ表しましょう。

分数 $\frac{10}{5}$ m

2 ア～エのめもりが表す長さは、それぞれ何mですか。

(うすい字はなぞりましょう。)



答え ア $\frac{9}{8}$ m イ $\frac{11}{8}$ m ウ $\frac{12}{8}$ m エ $\frac{14}{8}$ m

