



# 分数 7

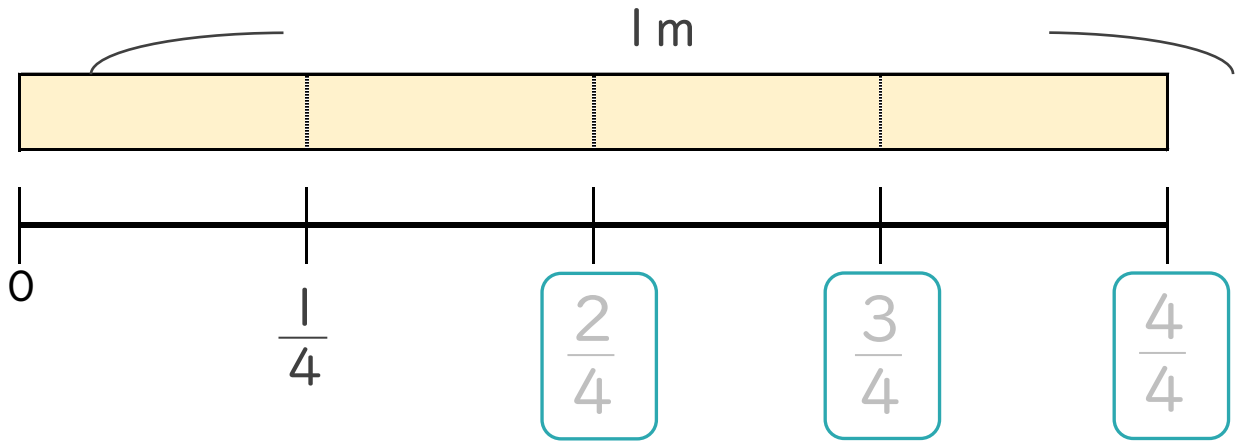
● 1より小さい分数を数直線に表す



日にち： 月 日

名まえ \_\_\_\_\_

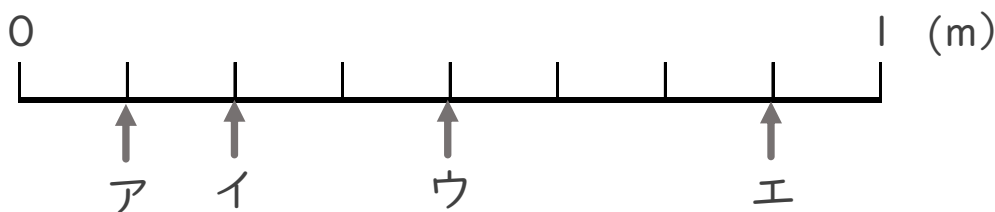
1 次の図を見て答えましょう。(うすい字はなぞりましょう。)



①  にあてはまる分数を書きましょう。

②  $\frac{1}{4}$  mの4こ分の長さは何mですか。            m

2 ア～エのめもりが表す長さは、それぞれ何mですか。  
(うすい字はなぞりましょう。)



答え ア  $\frac{1}{8}$  m イ            m ウ            m エ            m



# 分数 7

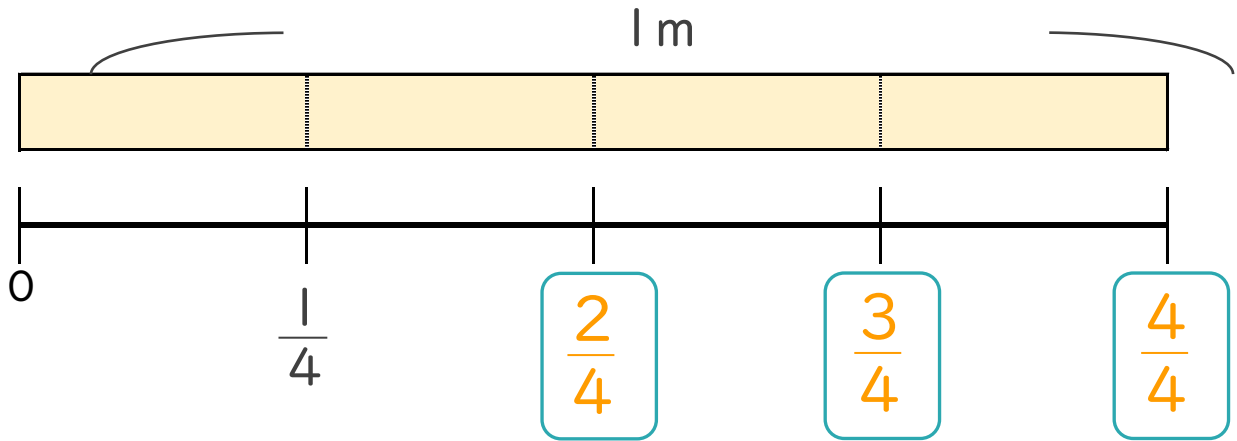
● 1より小さい分数を数直線に表す



日にち： 月 日

名まえ \_\_\_\_\_

1 次の図を見て答えましょう。(うすい字はなぞりましょう。)



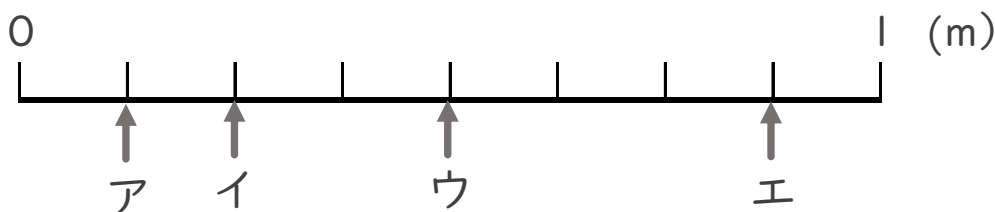
①  にあてはまる分数を書きましょう。

②  $\frac{1}{4}$  mの4こ分の長さは何mですか。

           m

2 ア～エのめもりが表す長さは、それぞれ何mですか。

(うすい字はなぞりましょう。)



答え    ア    $\frac{1}{8}$  m    イ    $\frac{2}{8}$  m    ウ    $\frac{4}{8}$  m    エ    $\frac{7}{8}$  m