



# 大きい数のしくみ 9

● 1万の位の数直線



日にち：            月            日

名まえ \_\_\_\_\_

すうちよくせん

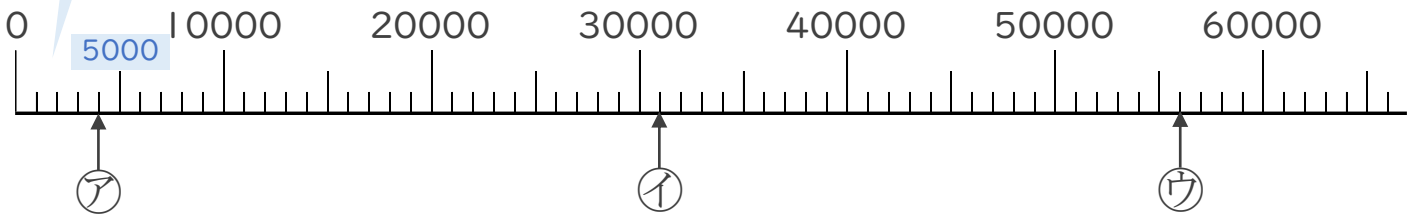
1 下のような数の線を数直線といいます。

ア、イ、ウのめもりが表している数を〔 〕に書きましょう。

☆いちばん小さい1めもりはいくつ？

0と10000の間が10こに分かれているから、

いちばん小さい1めもりは  だね！



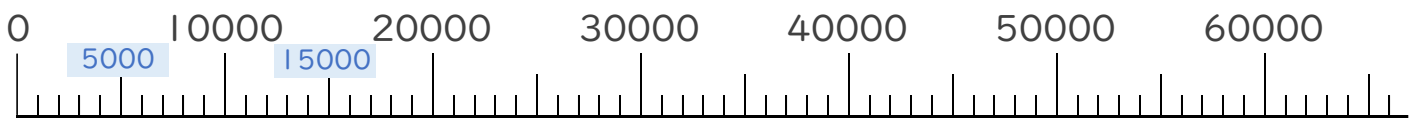
〔                    〕

〔                    〕

〔                    〕

2 次の数を表すめもりに、↑を書きましょう。

- ① 27000    ② 61000





# 大きい数のしくみ 9

● 1万の位の数直線



日にち：            月            日

名まえ \_\_\_\_\_

すうちよくせん

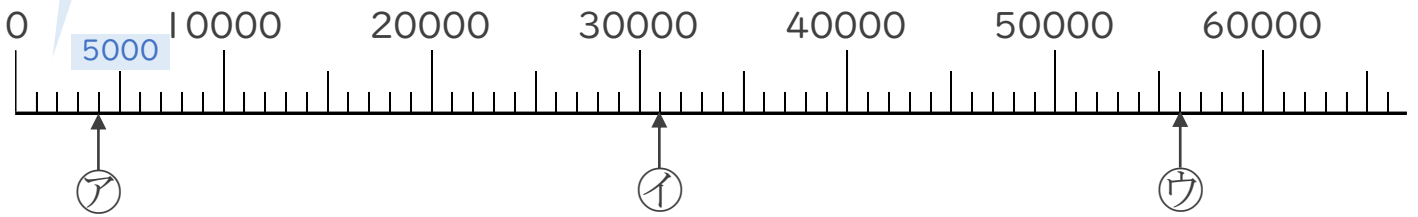
1 下ののような数の線を数直線といいます。

ア、イ、ウのめもりが表している数を〔 〕に書きましょう。

☆いちばん小さい1めもりはいくつ？

0と10000の間が10こに分かれているから、

いちばん小さい1めもりは **1000** だね！



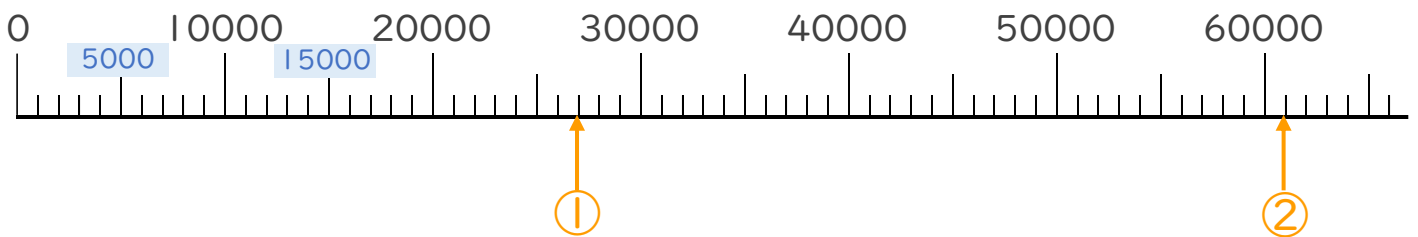
〔 **4000** 〕

〔 **31000** 〕

〔 **56000** 〕

2 次の数を表すめもりに、↑を書きましょう。

- ① 27000
- ② 61000



①

②

