



# かけ算の筆算 6

◎ 2けた × 1けた  
(一の位くり上がりあり)



日にち：            月            日

名まえ \_\_\_\_\_

・  $15 \times 5$  を筆算でしましょう。

	1	5
×		5
<hr/>		

くらいをそろえて  
書く。

	1	5
×		5
<hr/>		

$5 \times 5 = 25$   
十のくらの 2 を  
小さく書く。  
一のくらは 5。

	1	5
×		5
<hr/>		

$5 \times 1 = 5$   
十のくらは 5 と  
小さく書いた 2 をたす。  
 $5 + 2 = 7$



# かけ算の筆算 6

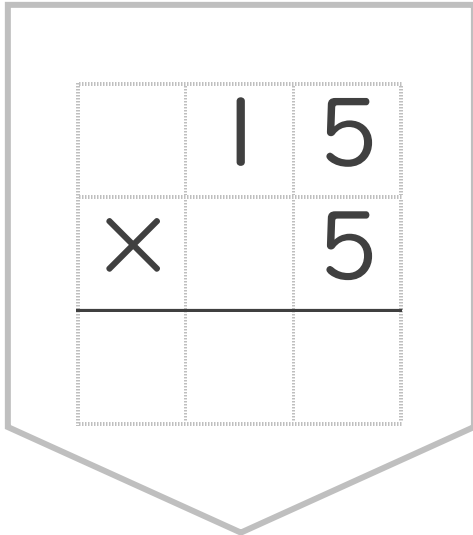
◎ 2けた × 1けた  
(一の位くり上がりあり)



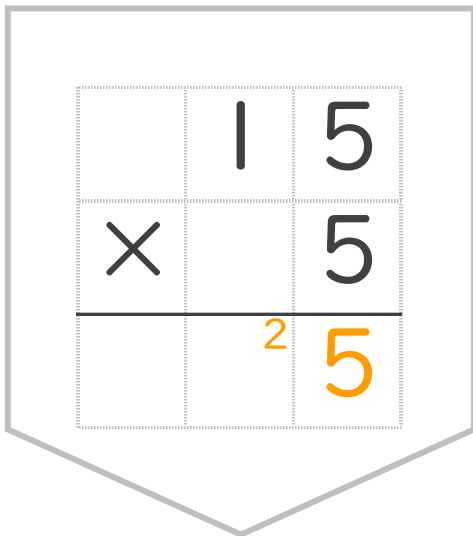
日にち：            月            日

名まえ \_\_\_\_\_

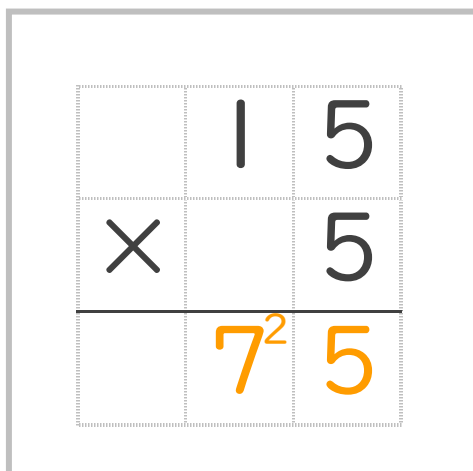
・  $15 \times 5$  を筆算でしましょう。



くらいをそろえて  
書く。



$5 \times 5 = 25$   
十のくらの 2 を  
小さく書く。  
一のくらは 5。



$5 \times 1 = 5$   
十のくらは 5 と  
小さく書いた 2 をたす。  
 $5 + 2 = 7$