



大きい数のわり算 7

◎ 3分の1の長さをえらぼう

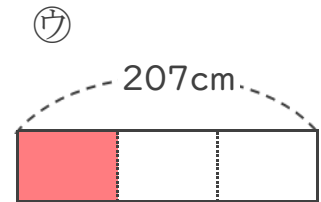
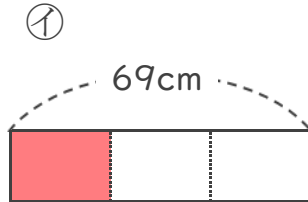
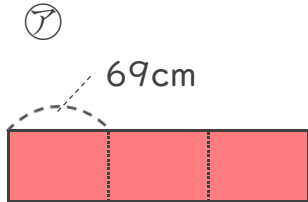


日にち： 月 日

名まえ _____

2 69cmの $\frac{1}{3}$ の長さについて考えます。

① 69cmの $\frac{1}{3}$ の長さを表しているのは、ア、イ、ウのどれですか。



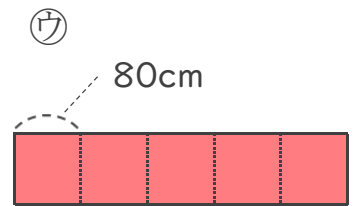
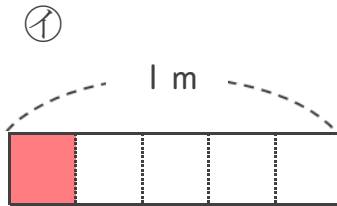
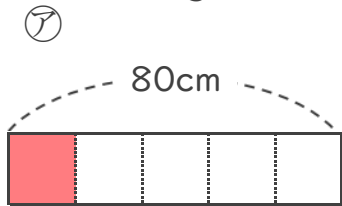
答え _____

② にあう数を書きましょう。

69cmの $\frac{1}{3}$ の長さは、69cmを 等分した1こ分の長さと同じです。

1 80cmの $\frac{1}{5}$ の長さについて考えます。

① 80cmの $\frac{1}{5}$ の長さを表しているのは、ア、イ、ウのどれですか。



答え _____

② にあう数を書きましょう。

80cmの $\frac{1}{5}$ の長さは、80cmを 等分した1こ分の長さと同じです。



大きい数のわり算 7

◎ 3分の1の長さをえらぼう

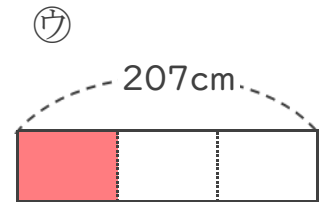
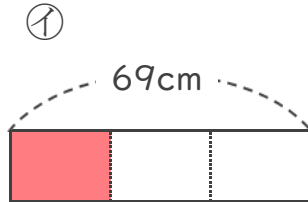
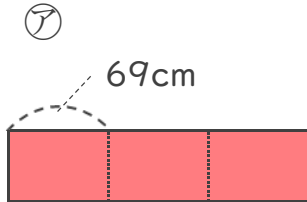


日にち： 月 日

名まえ

2 69cmの $\frac{1}{3}$ の長さについて考えます。

① 69cmの $\frac{1}{3}$ の長さを表しているのは、ア、イ、ウのどれですか。



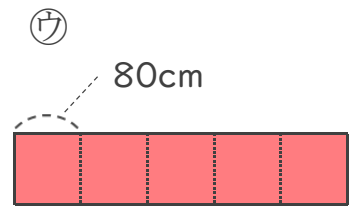
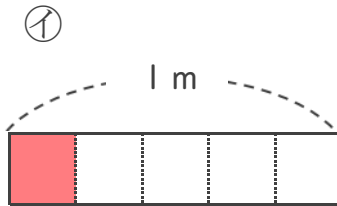
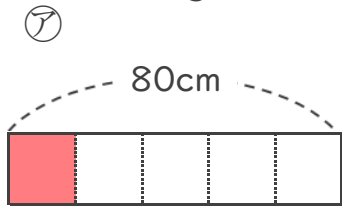
答え **イ**

② にあう数を書きましょう。

69cmの $\frac{1}{3}$ の長さは、69cmを **3** 等分した1こ分の長さと同じです。

1 80cmの $\frac{1}{5}$ の長さについて考えます。

① 80cmの $\frac{1}{5}$ の長さを表しているのは、ア、イ、ウのどれですか。



答え **ア**

② にあう数を書きましょう。

80cmの $\frac{1}{5}$ の長さは、80cmを **5** 等分した1こ分の長さと同じです。