



# 大きい数のわり算 3

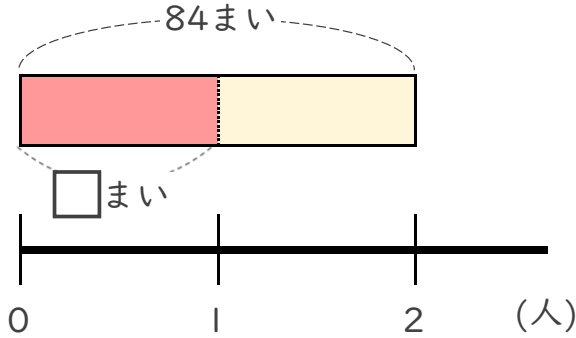
◎ 39まいのおり紙を  
3人でわける



日にち： 月 日

名まえ \_\_\_\_\_

- ・ 84まいのおり紙を、2人で同じ数ずつ分けます。  
1人分は何まいになりますか。

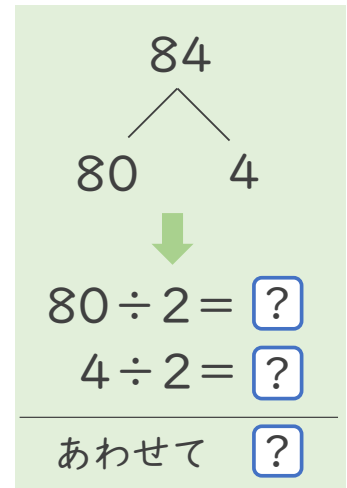
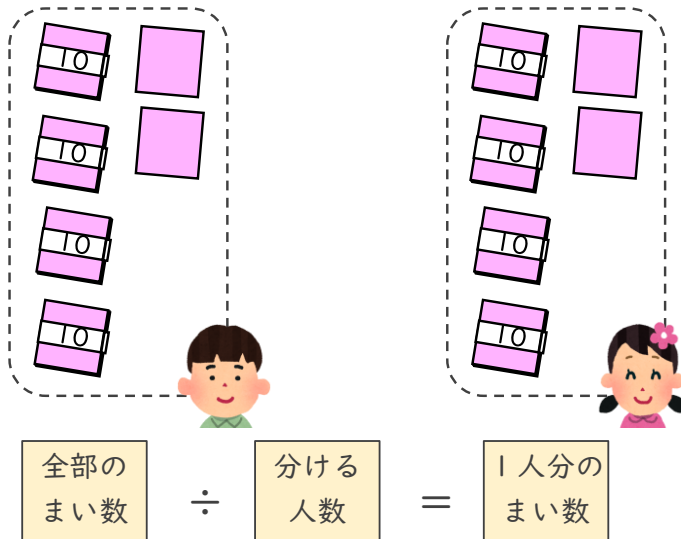


- ① 計算の式を書きましょう。

全部の まい数	÷	分ける 人数
------------	---	-----------

式 \_\_\_\_\_

- ② 下の図をもとに計算してみましょう。



式:

答え \_\_\_\_\_



# 大きい数のわり算 3

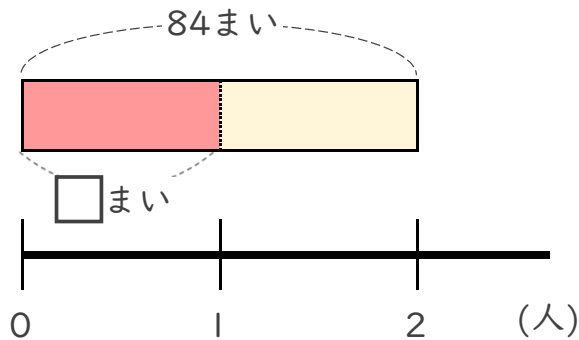
◎ 39まいのおり紙を  
3人でわける



日にち： 月 日

名まえ \_\_\_\_\_

- ・ 84まいのおり紙を、2人で同じ数ずつ分けます。  
1人分は何まいになりますか。

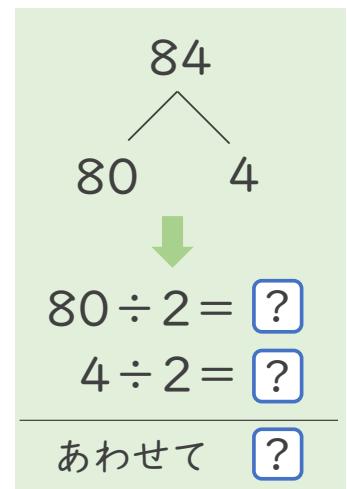
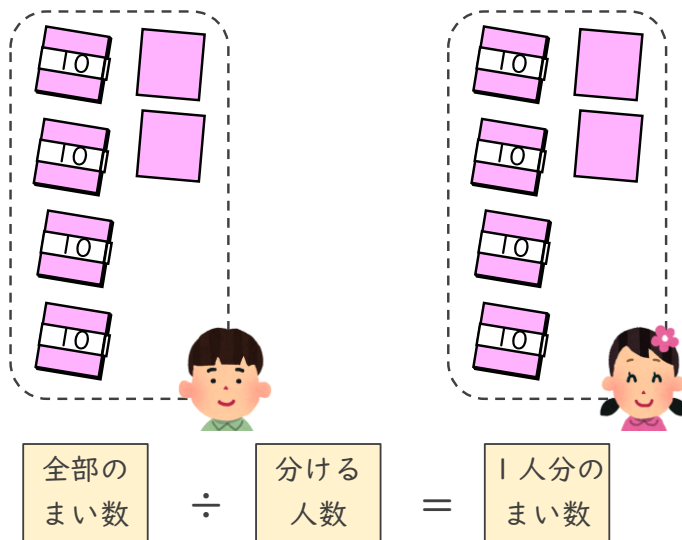


- ① 計算の式を書きましょう。



式  $84 \div 2$

- ② 下の図をもとに計算してみましょう。



式:  $84 \div 2 = 42$

答え  $42$ まい