



大きい数のしくみ 16


◎ 4けたの数をつくろう

4

日にち： 月 日


名まえ _____

- 0から9までの10まいのカードから7まいを使って、7けたの整数を作ります。




- ① いちばん大きい数を作しましょう。

一の位



- ② いちばん小さい数を作しましょう。

一の位





大きい数のしくみ 16


◎ 4けたの数をつくろう

4

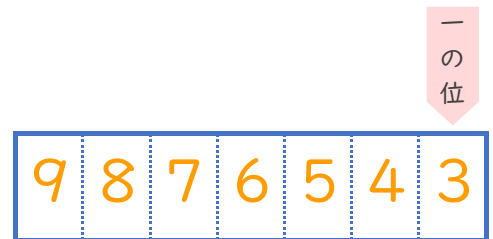
日にち： 月 日

名まえ _____

- 0から9までの10まいのカードから7まいを使って、7けたの整数を作ります。



- ① いちばん大きい数を作しましょう。



- ② いちばん小さい数を作しましょう。

