



# かけ算の筆算 9

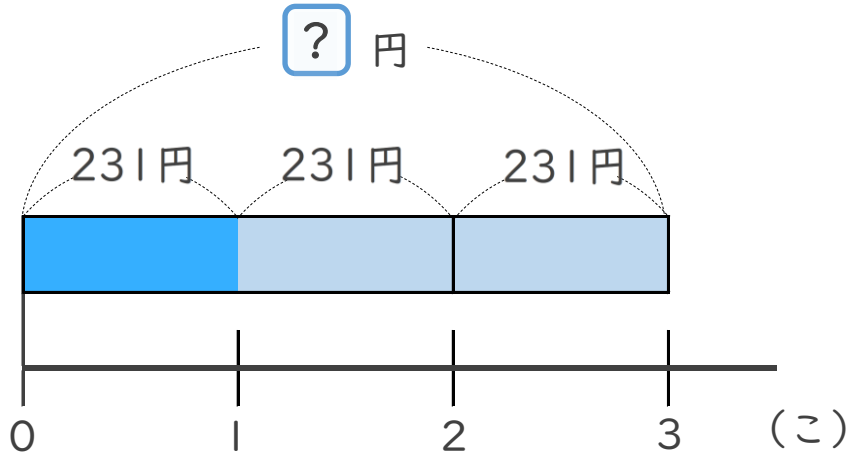
321 円のテープを  
3m 買った代金



日にち：      月      日

名まえ \_\_\_\_\_

1 このねだんが231円のドーナツを、3こ買います。  
代金はいくらですか。

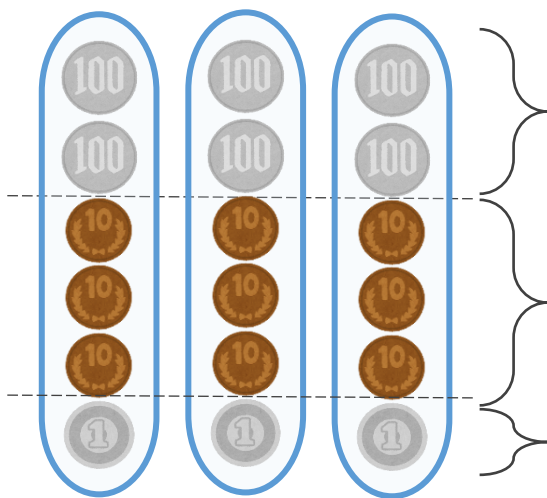


式：

答え： \_\_\_\_\_



こうた



$$200 \times 3 = 600$$

$$30 \times 3 = 90$$

$$1 \times 3 = 3$$

あわせて



# かけ算の筆算 9

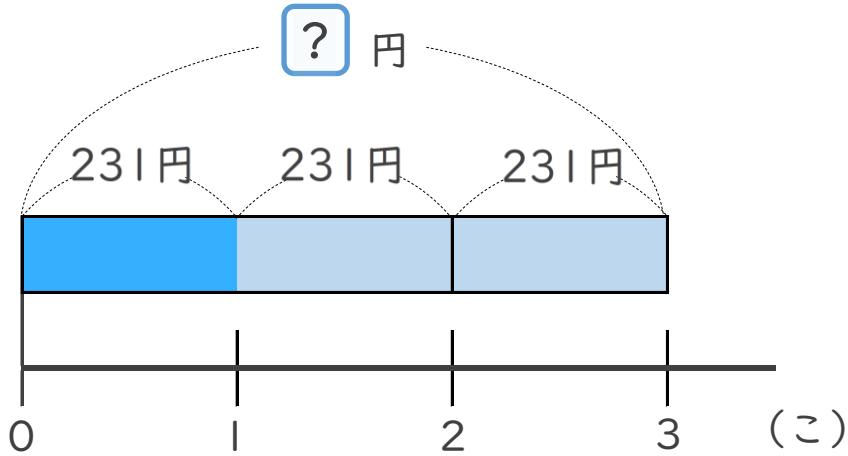
● 321 円のテープを  
3m 買った代金



日にち：            月            日

名まえ \_\_\_\_\_

1 このねだんが231円のドーナツを、3こ買います。  
代金はいくらですか。

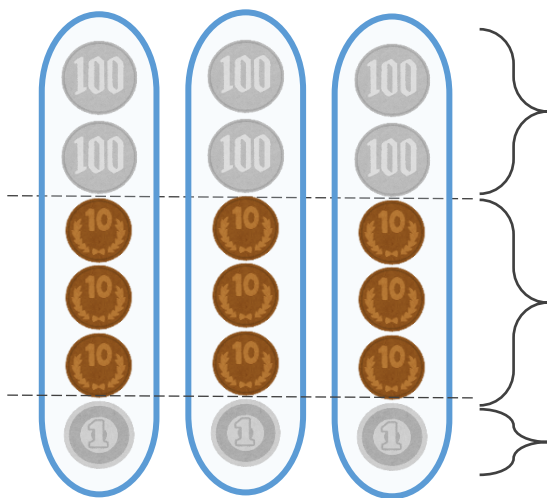


式：  $231 \times 3 = 693$

答え： 693 円



こうた



$200 \times 3 = 600$

$30 \times 3 = 90$

$1 \times 3 = 3$

あわせて

**693**