



大きい数のわり算！

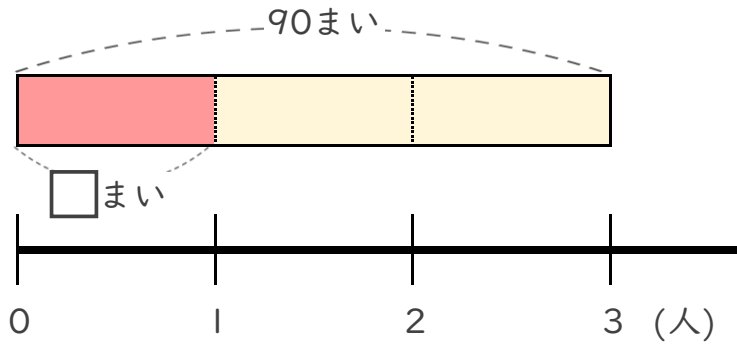
◎ 80まいのおり紙を
4人でわける



日にち： 月 日

名まえ _____

- ・ 90まいのおりがみを、3人で同じ数ずつ分けます。
1人分は何まいになりますか。



① 計算の式を書きましょう。

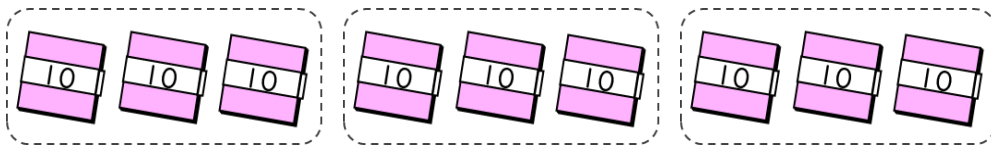
全部の
まい数

÷

分ける
人数

式 _____

② 下の図をもとに計算してみましょう。



$$9 \div 3 = 3$$

$$90 \div 3 = \boxed{?}$$

全部の
まい数

÷

分ける
人数

=

1人分の
まい数

式:

答え _____



大きい数のわり算！

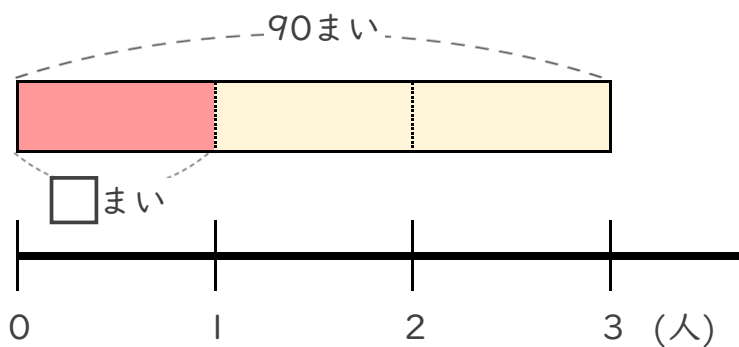
◎ 80まいのおり紙を
4人でわけろ



日にち： 月 日

名まえ _____

- ・ 90まいのおりがみを、3人で同じ数ずつ分けろ。
- 1人分は何まいになりますか。

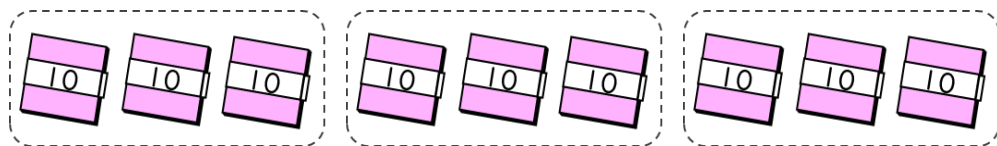


① 計算の式を書きましょう。

全部の まい数	÷	分ける 人数
------------	---	-----------

式 $90 \div 3$

② 下の図をもとに計算してみましょう。



$$9 \div 3 = 3$$

$$90 \div 3 = \boxed{?}$$

全部の まい数	÷	分ける 人数	=	1人分の まい数
------------	---	-----------	---	-------------

式: $90 \div 3 = 30$

答え 30 まい

