



時こくと時間の  
もとめかた 10

● ○分前の時こく (数直線)

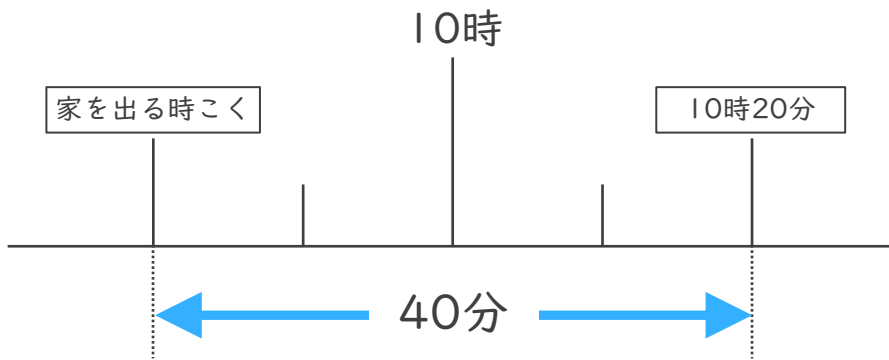


日にち： 月 日

名まえ \_\_\_\_\_

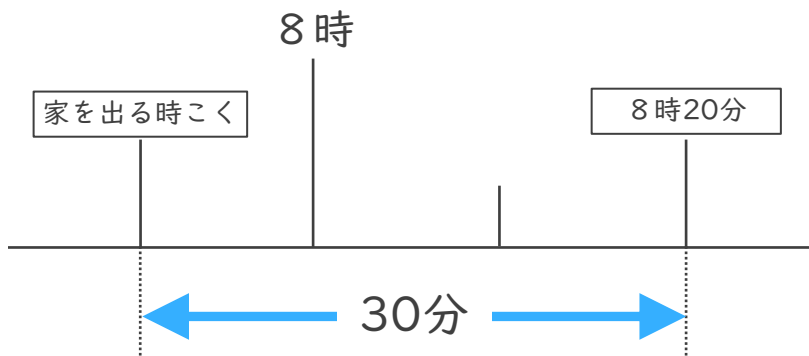
・ 次の問いに答えましょう。

- ① しょうさんの家から学校まで40分かかります。10時20分までに学校に着くためには、おそくとも何時何分までに家を出なければならないでしょうか。



答え ( )

- ② けんさんの家から公園まで30分かかります。8時20分までに公園に着くためには、おそくとも何時何分までに家を出なければならないでしょうか。



答え ( )



時こくと時間の  
もとめかた 10



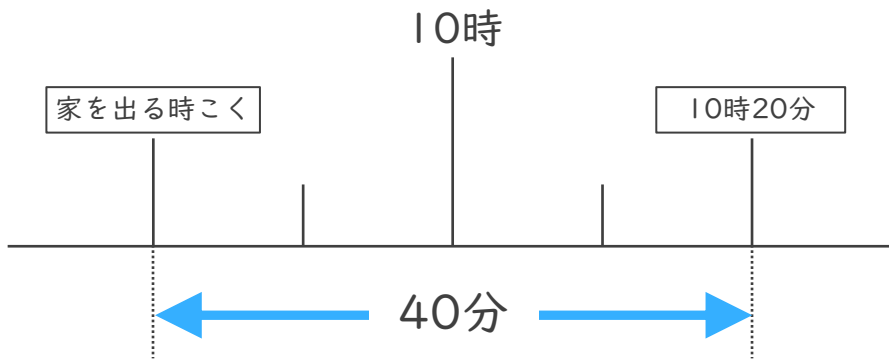
○分前の時こく (数直線)

日にち： 月 日

名まえ \_\_\_\_\_

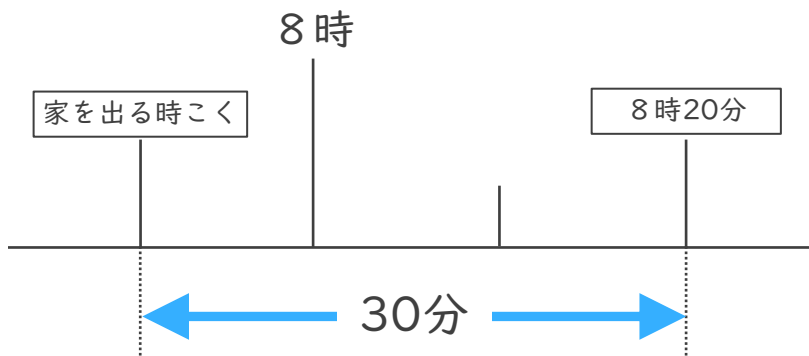
・ 次の問いに答えましょう。

- ① しょうさんの家から学校まで40分かかります。10時20分までに学校に着くためには、おそくとも何時何分までに家を出なければなりませんでしょうか。



答え ( 9時40分 )

- ② けんさんの家から公園まで30分かかります。8時20分までに公園に着くためには、おそくとも何時何分までに家を出なければなりませんでしょうか。



答え ( 7時50分 )