



時こくと時間の
もとめかた 10



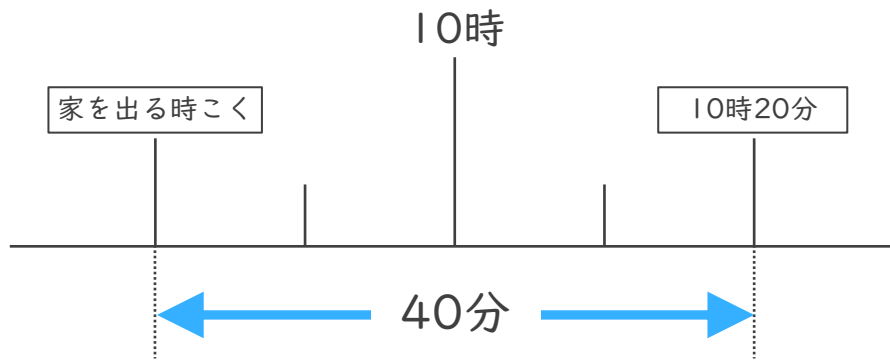
○分前の時こく (数直線)

日にち： 月 日

名まえ _____

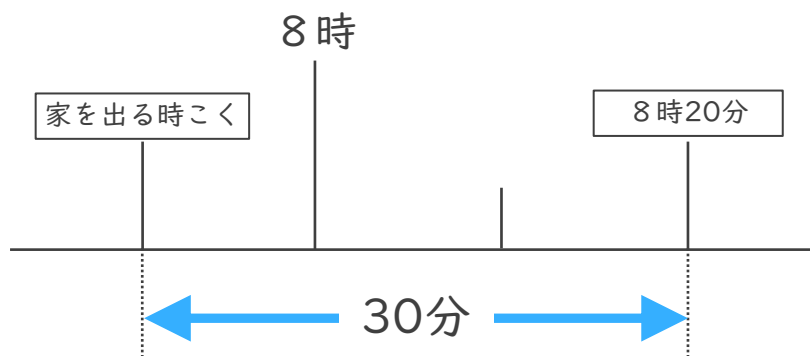
・ 次の問いに答^{こた}えましょう。

- ① しょうさんの家から学校まで40分かかります。10時20分までに学校に着くためには、おそくとも何時何分までに家を出なければならぬでしょうか。



答え ()

- ② けんさんの家から公園まで30分かかります。8時20分までに公園に着くためには、おそくとも何時何分までに家を出なければならぬでしょうか。



答え ()



時こくと時間の
もとめかた 10



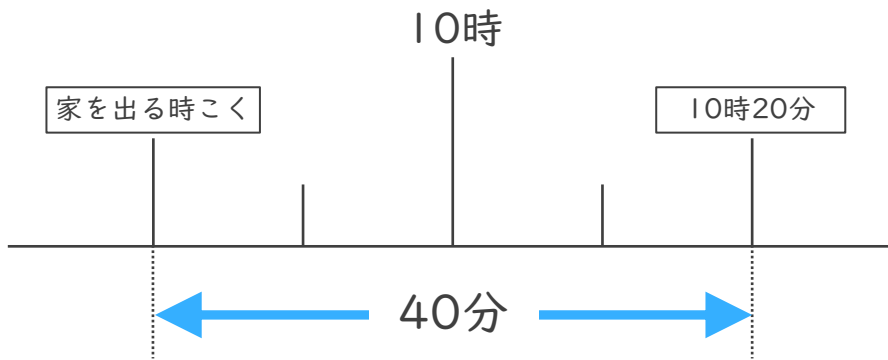
○分前の時こく (数直線)

日にち： 月 日

名まえ _____

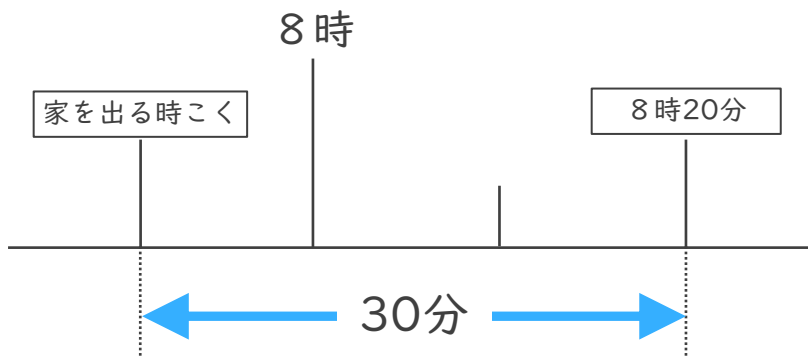
・ 次の問いに^{こた}答えましょう。

- ① しょうさんの家から学校まで40分かかります。10時20分までに学校に着くためには、おそくとも何時何分までに家を出なければならぬでしょうか。



答え (9時40分)

- ② けんさんの家から公園まで30分かかります。8時20分までに公園に着くためには、おそくとも何時何分までに家を出なければならぬでしょうか。



答え (7時50分)