



時こくと時間の
もとめかた 13



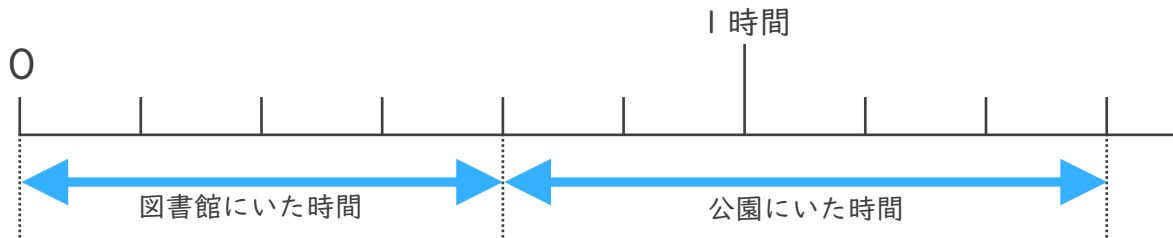
○分+△分 (時間の和)

日にち： 月 日

名まえ _____

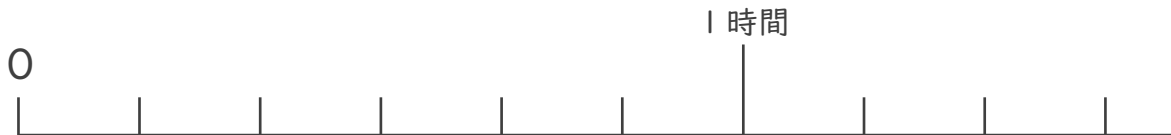
・ 次の問いに答えましょう。

- ① 図書館にいた時間は40分、公園にいた時間は50分です。あわせて何時間何分ですか。



答え ()

- ② 商店がい にいた時間は20分、公園にいた時間は50分です。あわせて何時間何分ですか。



答え ()

- ③ 図書館にいた時間は50分、学校にいた時間は40分です。あわせて何時間何分ですか。



答え ()





時こくと時間の もとめかた 13



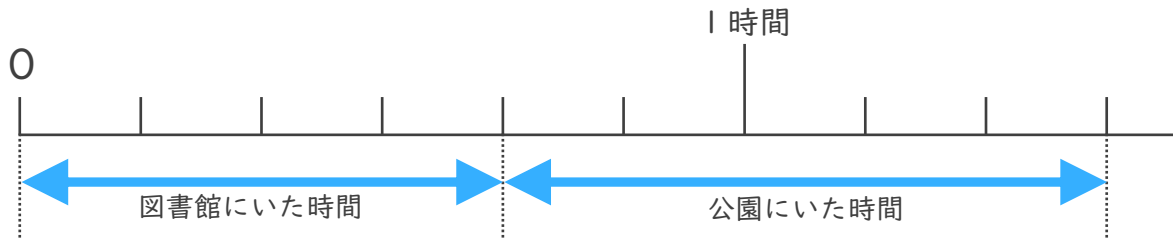
○分+△分 (時間の和)

日にち： 月 日

名まえ _____

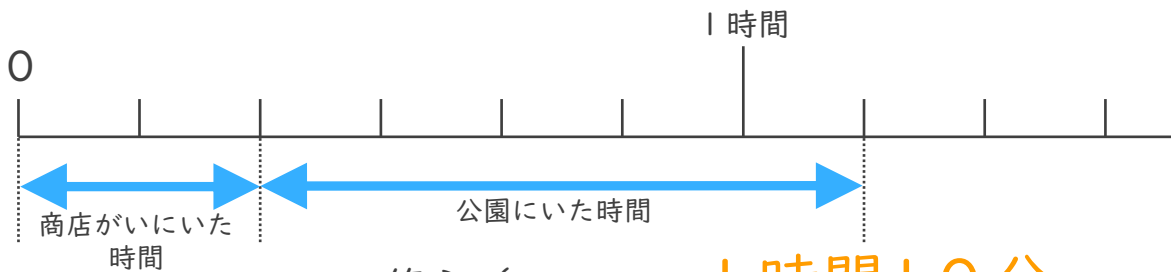
・ 次の問いに答えましょう。

- ① 図書館にいた時間は40分、公園にいた時間は50分です。あわせて何時間何分ですか。



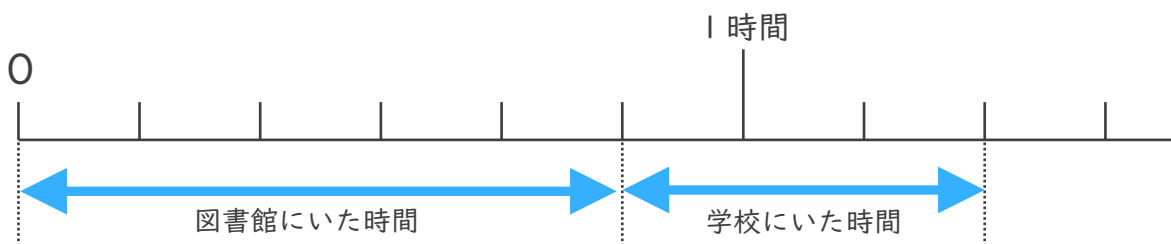
答え (**1時間30分**)

- ② 商店がいにいた時間は20分、公園にいた時間は50分です。あわせて何時間何分ですか。



答え (**1時間10分**)

- ③ 図書館にいた時間は50分、学校にいた時間は40分です。あわせて何時間何分ですか。



答え (**1時間30分**)

