



ぼうグラフと表5

● ぼうグラフの
1めもりの大きさ

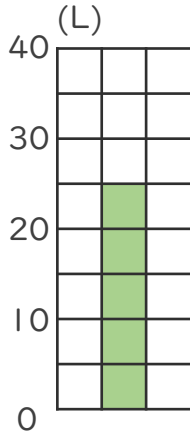


日にち： 月 日

名まえ _____

・ 次のぼうグラフで、1めもりが表している大きさと、
ぼうが表している大きさをもとめましょう。(うすい字は
なぞりましょう。)

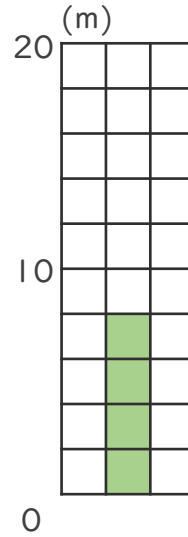
①



1めもり [5L]

グラフ [L]

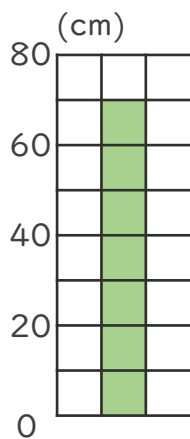
③



1めもり [m]

グラフ []

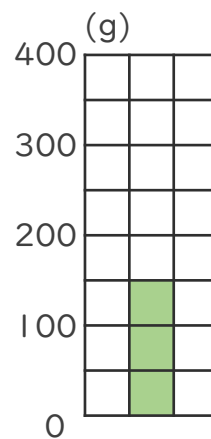
②



1めもり []

グラフ []

④



1めもり []

グラフ []



ぼうグラフと表5

● ぼうグラフの
1めもりの大きさ

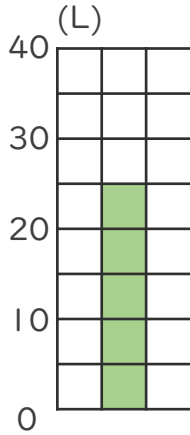
5

日にち： 月 日

名まえ _____

・ 次のぼうグラフで、1めもりが表している大きさと、
ぼうが表している大きさをもとめましょう。(うすい字は
なぞりましょう。)

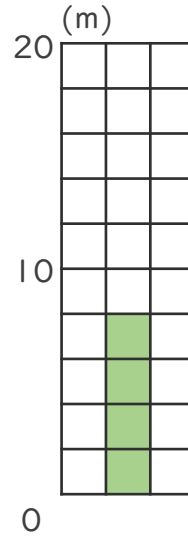
①



1めもり [5L]

グラフ [25L]

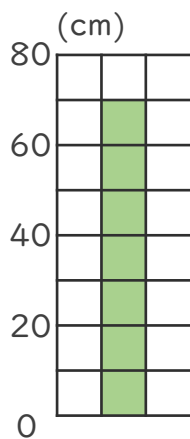
③



1めもり [2m]

グラフ [8m]

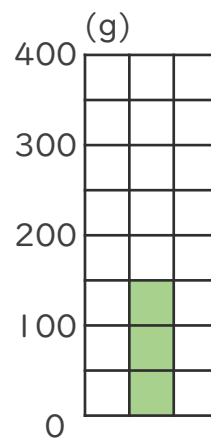
②



1めもり [10cm]

グラフ [70cm]

④



1めもり [50g]

グラフ [150g]

