





長いものの長さの  
はかり方と表し方

まきじゃくの読み取り

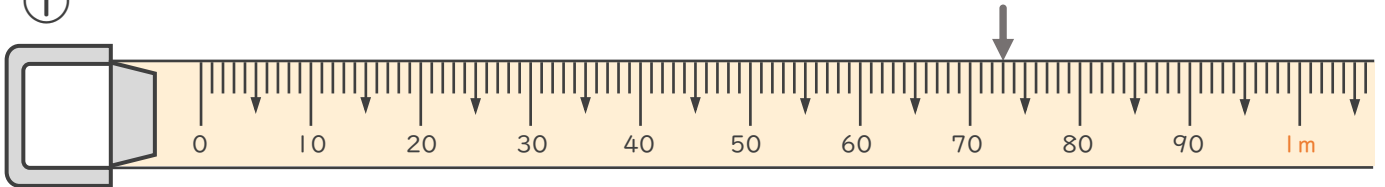


日にち： 月 日

名まえ

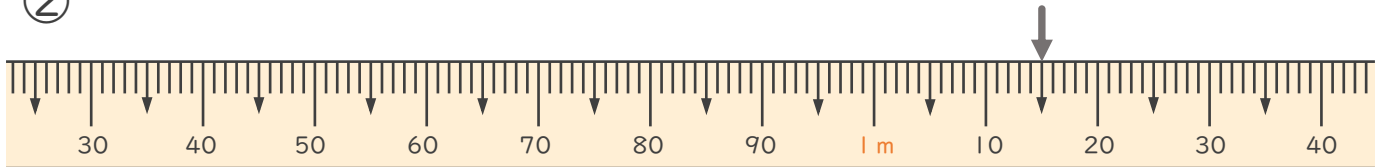
・ 次のまきじゃくで、↓のめもりが表している長さを読み取りましょう。

①



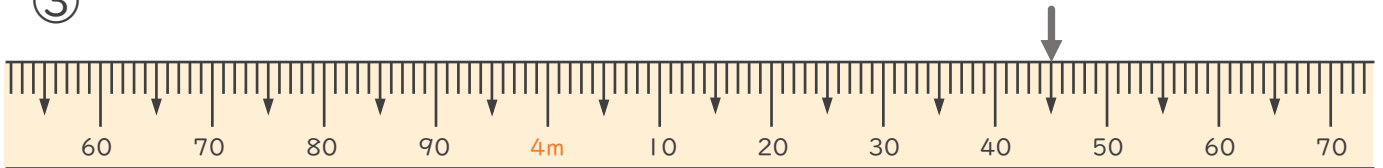
答え ( 73 cm )

②



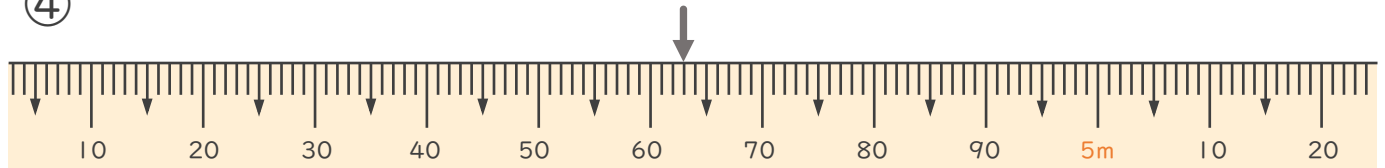
答え ( 1 m 15 cm )

③



答え ( 4 m 45 cm )

④



答え ( 4 m 63 cm )

