



長いものの長さの はかり方と表し方 2

● まきじゃくへの書きこみ



日にち： 月 日

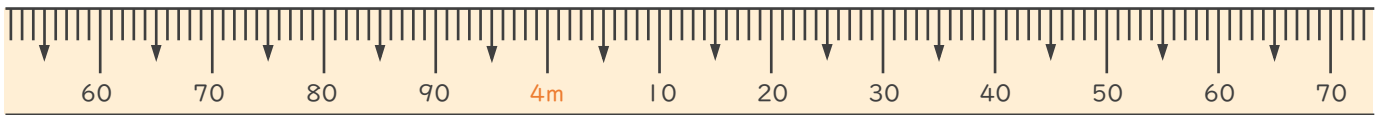
名まえ _____

1 次のまきじゃくで、①～③の長さ^{なが}を表す^{あらわ}めもりに ↓ をかきましょう。

① 3 m 6 5 c m

② 4 m 1 2 c m

③ 4 m 4 0 c m

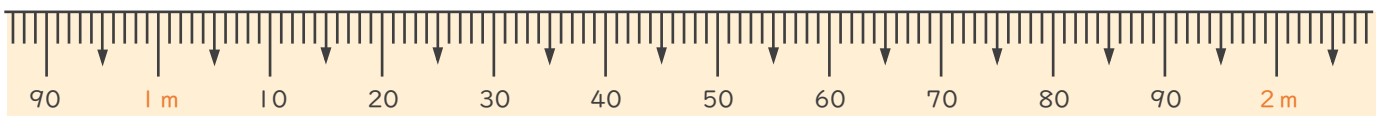


2 次のまきじゃくで、①～③の長さ^{なが}を表す^{あらわ}めもりに ↓ をかきましょう。

① 1 m 9 c m

② 1 m 1 7 c m

③ 1 m 8 5 c m





長いものの長さの はかり方と表し方 2

● まきじゃくへの書きこみ

5

日にち： 月 日

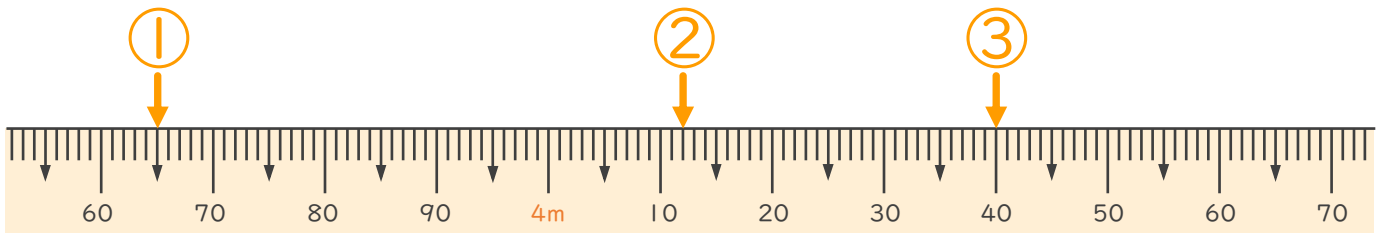
名まえ _____

1 次のまきじゃくで、①～③の長さ^{なが}を表す^{あらわ}メモりに ↓ をかきましょう。

① 3 m 6 5 c m

② 4 m 1 2 c m

③ 4 m 4 0 c m



2 次のまきじゃくで、①～③の長さ^{なが}を表す^{あらわ}メモりに ↓ をかきましょう。

① 1 m 9 c m

② 1 m 1 7 c m

③ 1 m 8 5 c m

