



重さのたんいと  
はかりかた 5

● グラムのはかりの  
読み取り練習

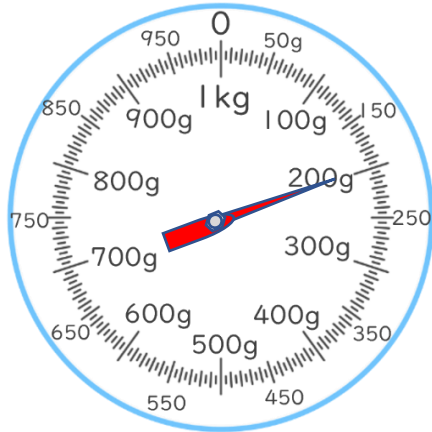


日にち： 月 日

名まえ \_\_\_\_\_


・ はりのさしている重さを書きましょう。(うすい字はなぞりましょう。)

①



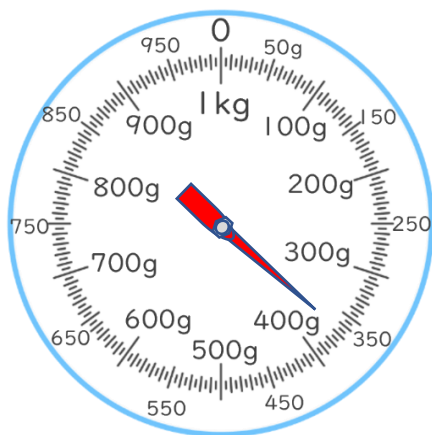
答え： 200 g

②



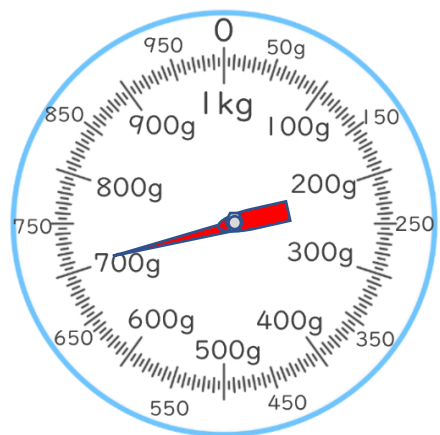
答え： 950 g

③



答え： \_\_\_\_\_

④



答え： \_\_\_\_\_



重さのたんいと  
はかりかた 5

● グラムのはかりの  
読み取り練習

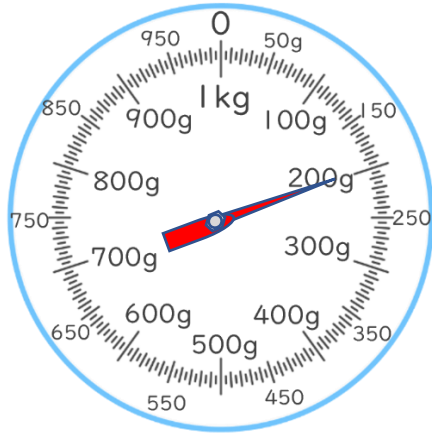


日にち：            月            日

名まえ \_\_\_\_\_


・ はりのさしている重さを書きましょう。(うすい字はなぞりましょう。)

①



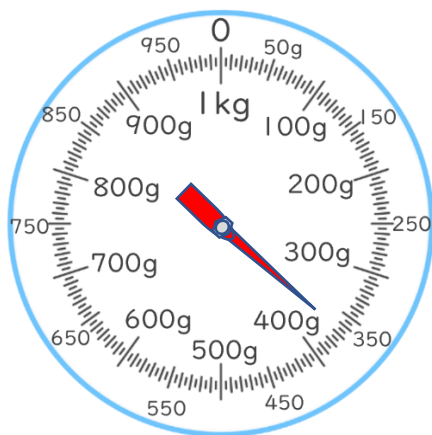
答え： 200 g

②



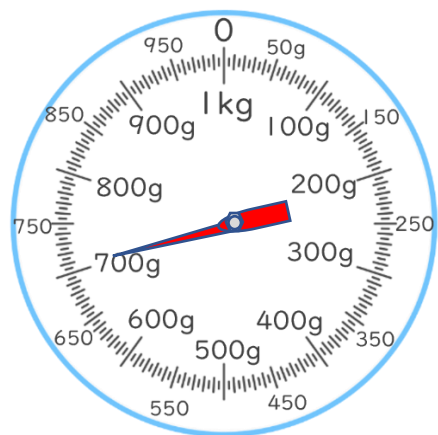
答え： 950 g

③



答え： 370 g

④



答え： 710 g