



# 円と球 7

コンパスで長さ比べ




日にち：            月            日

名まえ \_\_\_\_\_


・ 次の直線の長さをくらべ、長いじゆんに答えましょう。  
(うすい字は、なぞりましょう。)

①



答え：            →            →  
\_\_\_\_\_

②



答え：            →            →  
\_\_\_\_\_



# 円と球 7

コンパスで長さ比べ




日にち：            月            日

名まえ \_\_\_\_\_


・ 次の直線の長さをくらべ、長いじゆんに答えましょう。  
(うすい字は、なぞりましょう。)

①



答え： ウ → ア → イ

②



答え： ア → イ → ウ