



倍の計算 2

◎ 何倍かをもとめよう



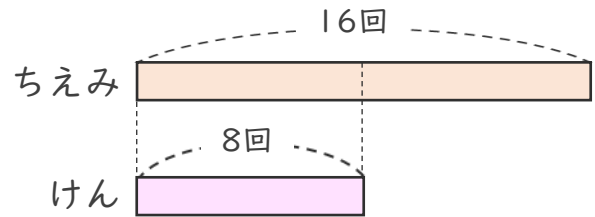
日にち： 月 日

名まえ _____

1 大なわとびで ちえみさんのはんは16回、
けんさんのはんは8回とびました。

ちえみさんのはんは、けんさんのはんの何倍とびましたか。
(うすい字はなぞりましょう。)

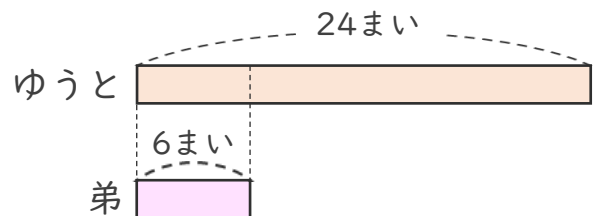
式： $16 \div 8 =$



答え： 倍

2 ゆうとさんは、色紙を24まい持っています。
ゆうとさんの弟は、6まい持っています。
ゆうとさんは弟の何倍持っていますか。
(うすい字はなぞりましょう。)

式： \div $=$



答え： 倍



倍の計算 2

◎ 何倍かをもとめよう

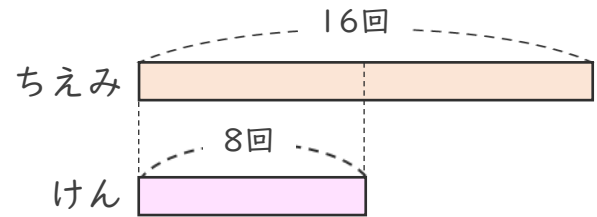


日にち： 月 日

名まえ _____

- 1 大なわとびで ちえみさんのはんは16回、
けんさんのはんは8回とびました。
ちえみさんのはんは、けんさんのはんの何倍とびましたか。
(うすい字はなぞりましょう。)

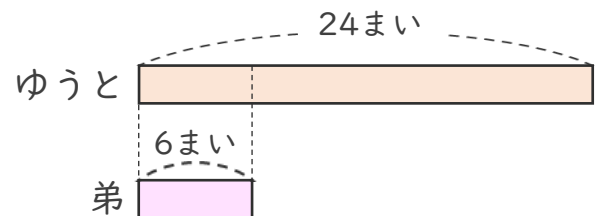
$$\text{式： } 16 \div 8 = 2$$



答え： 2 倍

- 2 ゆうとさんは、色紙を24まい持っています。
ゆうとさんの弟は、6まい持っています。
ゆうとさんは弟の何倍持っていますか。
(うすい字はなぞりましょう。)

$$\text{式： } 24 \div 6 = 4$$



答え： 4 倍