



円と球 3

● 円の中の一番長い線 (直径)

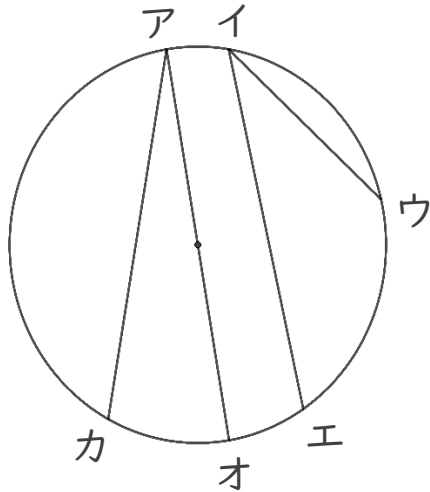


日にち： 月 日

名まえ _____

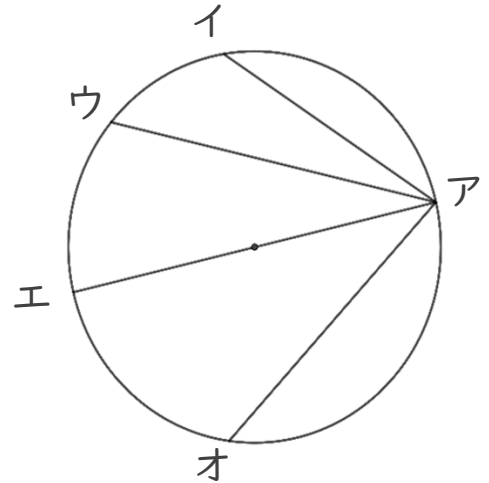
・ 次の円の中にひいた直線で一番長い直線はどれですか。
(うすい字はなぞりましょう。)

①



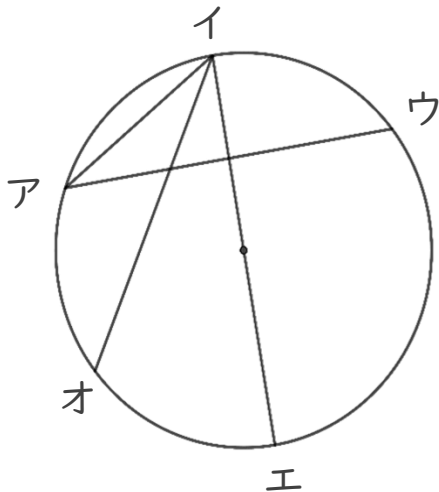
答え： 直線アオ

③



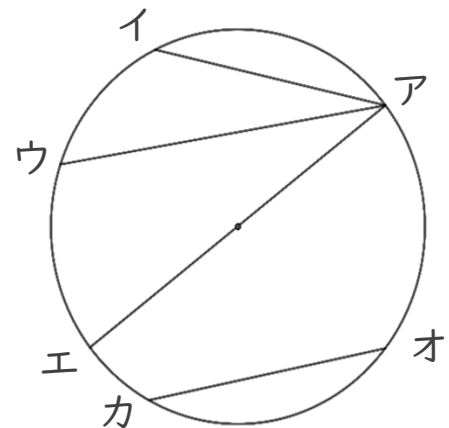
答え： _____

②



答え： _____

④



答え： _____



円と球 3

● 円の中の一番長い線 (直径)

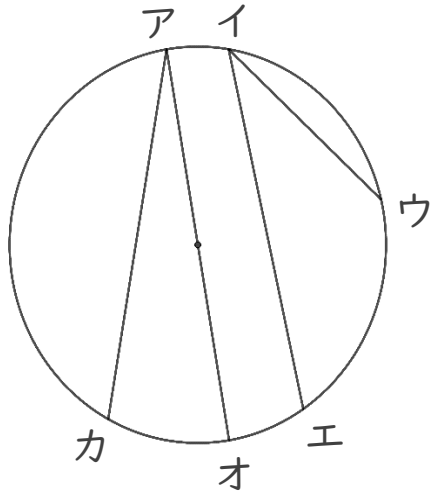


日にち： 月 日

名まえ _____

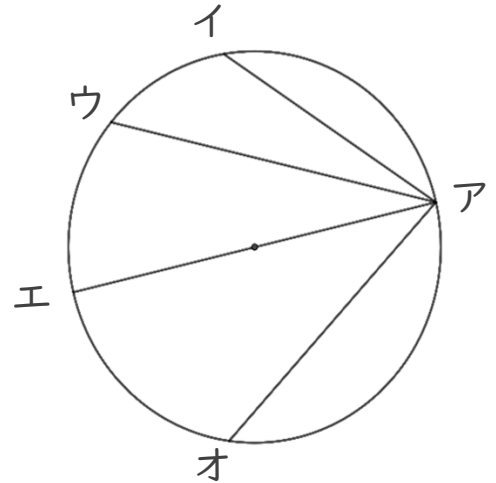
・ 次の円の中にひいた直線で一番長い直線はどれですか。
(うすい字はなぞりましょう。)

①



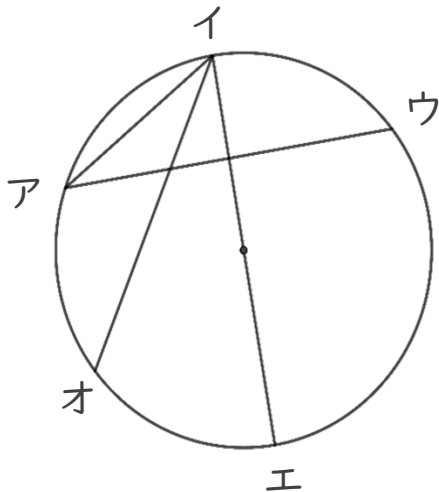
答え： 直線アオ

③



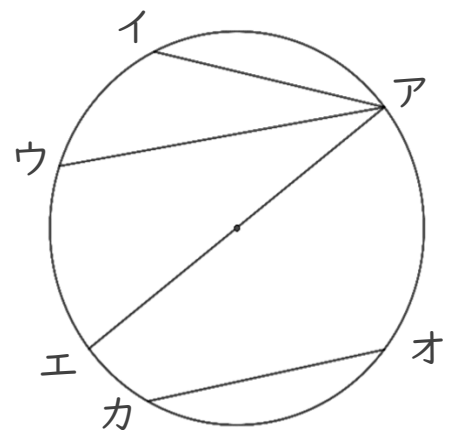
答え： 直線アエ

②



答え： 直線イエ

④



答え： 直線アエ

