



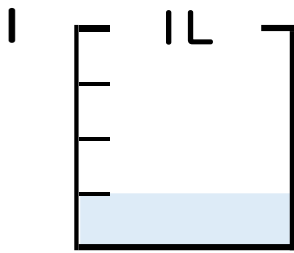
分数 4

● 分数の水のかさの読み取り



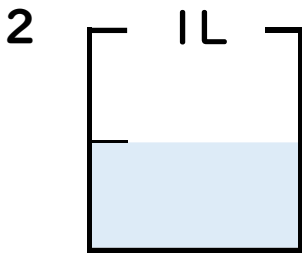
日にち： 月 日

名まえ _____



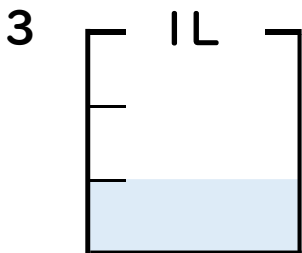
① 図の水のかさは1めもりの何こ分ですか？ _____ 半分

② 水のかさは、何^{リットル}Lですか？ _____ L



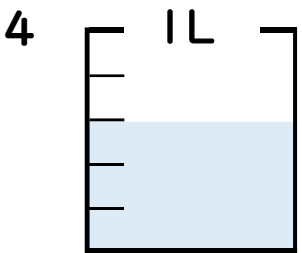
① 図の水のかさは1めもりの何こ分ですか？ _____ 半分

② 水のかさは、何^{リットル}Lですか？ _____ L



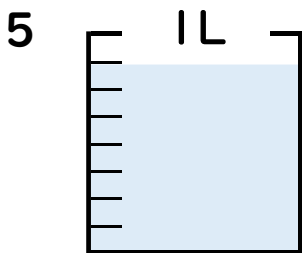
① 図の水のかさは1めもりの何こ分ですか？ _____ 半分

② 水のかさは、何^{リットル}Lですか？ _____ L



① 図の水のかさは1めもりの何こ分ですか？ _____ 半分

② 水のかさは、何^{リットル}Lですか？ _____ L



① 図の水のかさは1めもりの何こ分ですか？ _____ 半分

② 水のかさは、何^{リットル}Lですか？ _____ L





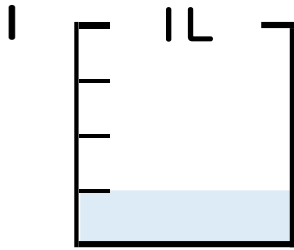
分数 4

● 分数の水のかさの読み取り



日にち： 月 日

名まえ _____

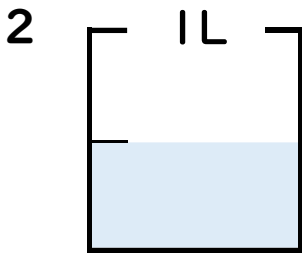


① 図の水のかさは1メモリの何こ分ですか？

$\frac{1}{4}$ 半分

② 水のかさは、何^{リットル}Lですか？

$\frac{1}{4}$ L

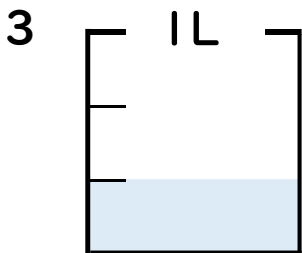


① 図の水のかさは1メモリの何こ分ですか？

$\frac{1}{2}$ 半分

② 水のかさは、何^{リットル}Lですか？

$\frac{1}{2}$ L

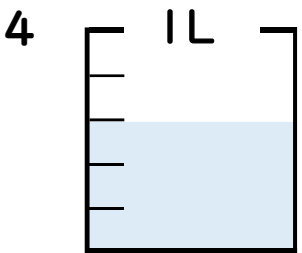


① 図の水のかさは1メモリの何こ分ですか？

$\frac{1}{3}$ 半分

② 水のかさは、何^{リットル}Lですか？

$\frac{1}{3}$ L

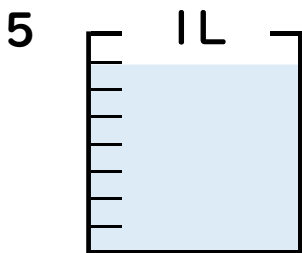


① 図の水のかさは1メモリの何こ分ですか？

$\frac{3}{5}$ 半分

② 水のかさは、何^{リットル}Lですか？

$\frac{3}{5}$ L



① 図の水のかさは1メモリの何こ分ですか？

$\frac{7}{8}$ 半分

② 水のかさは、何^{リットル}Lですか？

$\frac{7}{8}$ L

